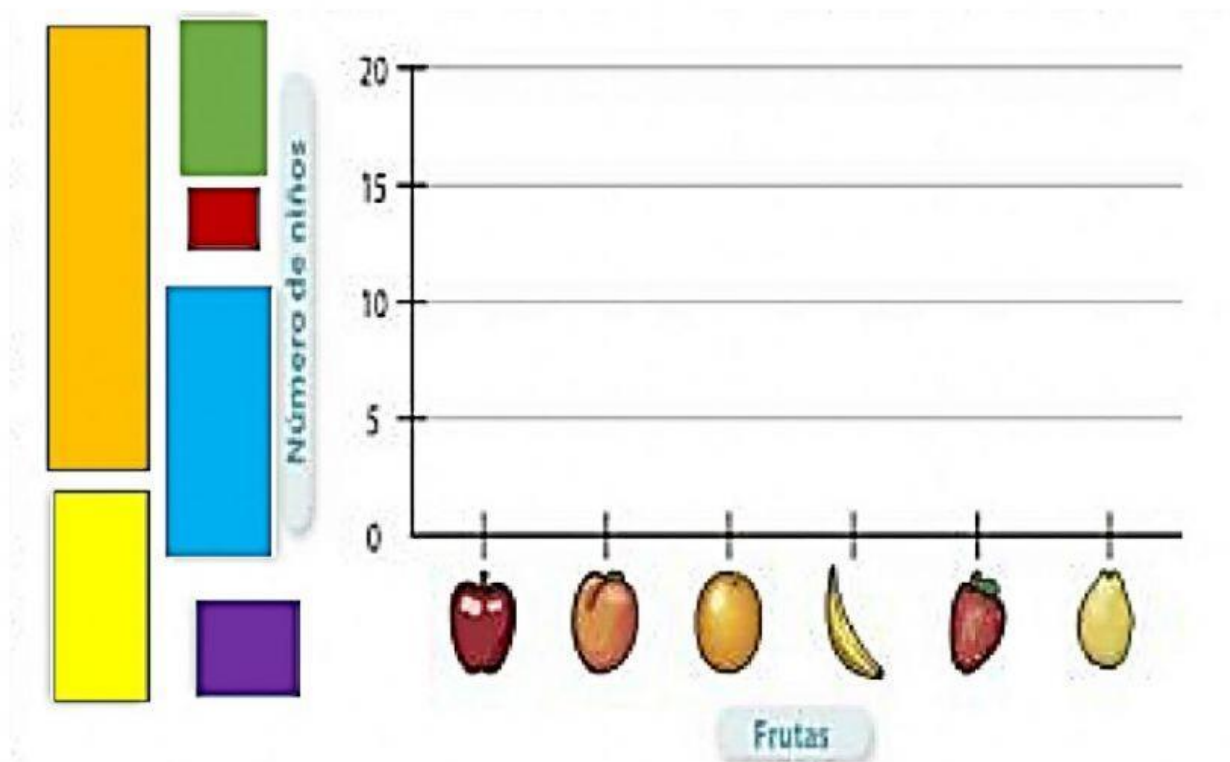


## EXAMEN DE GEOMETRÍA II BIMESTRE

Nombre: \_\_\_\_\_ Fecha: 19/07/21


I.- Arrastra la gráfica donde le corresponde a cada fruta y después contesta las preguntas.

FRUTA PREFERIDA						
FRUTAS	MANZANA	DURAZNO	NARANJA	PLÁTANO	FRESA	GUAYABA
Número de niños	5	12	18	8	4	7



II.- Utilizando la tabla de conteo vas a realizar el siguiente ejercicio  
Para realizar los palotes vas a utilizar la letra l (ele) en minúscula.



Insecto	Conteo	Total
		
		
		
		
		

**Responde:**

1. ¿Cuál insecto se repite más?

2. ¿Cuál insecto se repite menos?

3. ¿Cuántos caracoles hay?

4. ¿Hay más libélulas que abejas?

5. ¿Cuántos insecto en total hay?

6. ¿Cuántas libélulas y chinches hay?

7. ¿Qué hay más hormigas o caracoles?

III.- Realiza el siguiente pictograma.



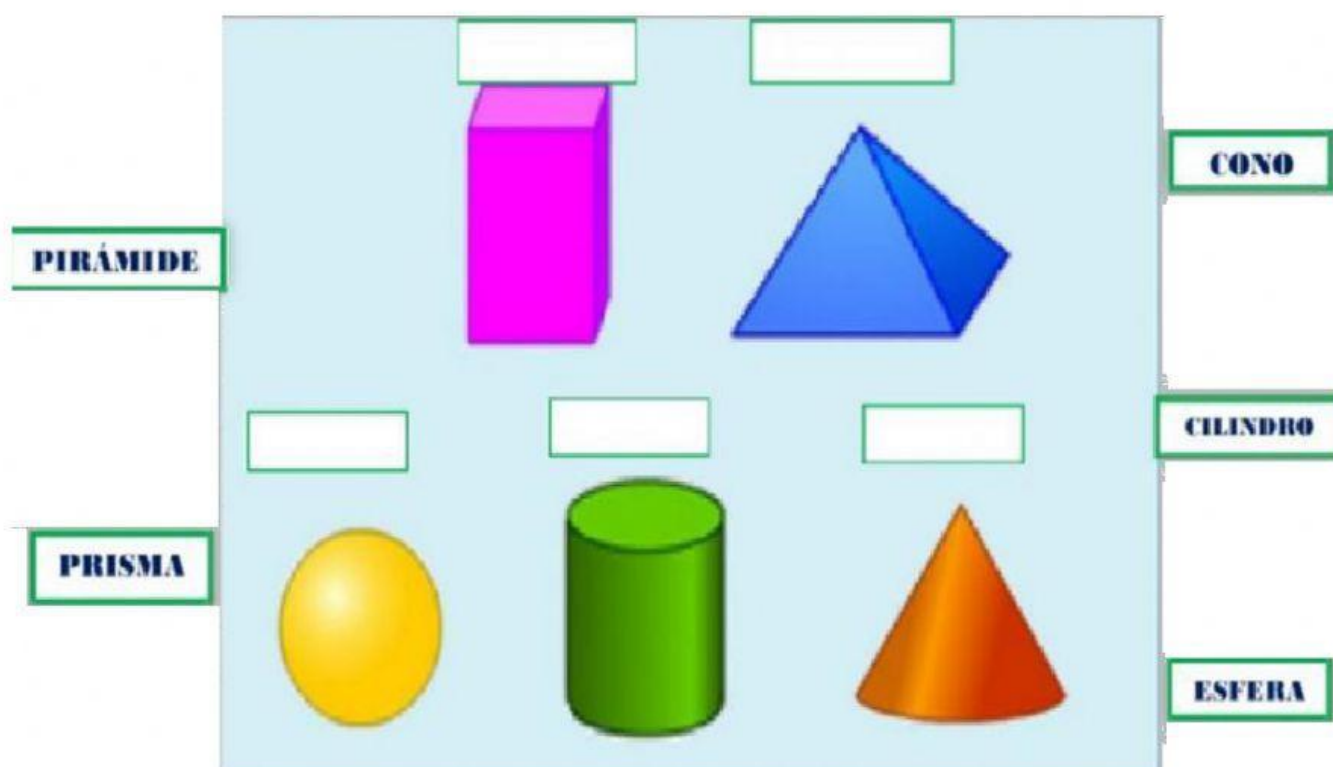
= 2 goles

Goles anotados en 4 partidos	
1° partido	    
2° partido	  
3° partido	     
4° partido	 

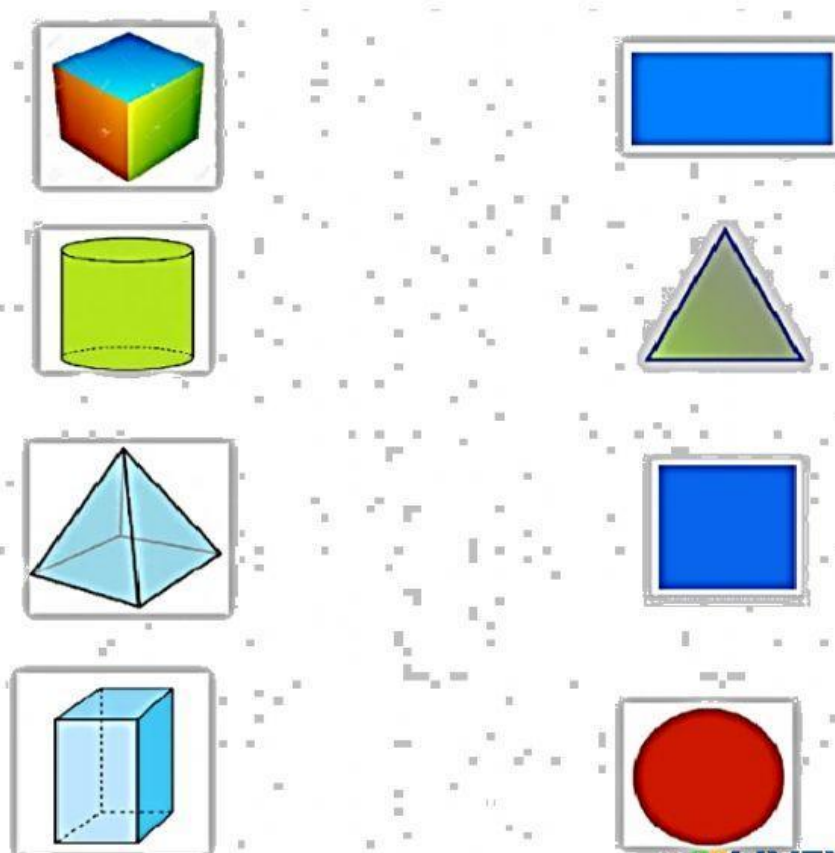
Completa las oraciones.

- En el cuarto partido nuestro equipo metió
- En el primer partido nuestro equipo metió
- En el tercer partido nuestro equipo metió
- En el segundo partido nuestro equipo metió
- Entre el primer y cuarto partido nuestro equipo metió
- Entre el segundo y tercer partido nuestro equipo metió

VI.-Arrastra donde corresponda al nombre del sólido geométrico.




V.-Une el cuerpo geométrico con la figura plana que se utilizó para hacerlo.





VI. Escucha con atención:

La mamá de Mariana ha decidido preparar una deliciosa ensalada para compartir con los niños en su primer día de clases presenciales, por lo que ha comprado los siguientes ingredientes:



Ingredientes		Total
Papa		
Zanahoria		
Cebolla		
Huevo		
Mayonesa		

a. ¿Qué ingrediente compró en mayor cantidad?

b. ¿Cuántas cebollas compró?

c. ¿Compró la misma cantidad de zanahorias que huevos?

d. ¿Qué ingrediente compró en menor cantidad?

Teniendo en cuenta la información anterior, selecciona el diagrama de barras horizontales que corresponde a la tabla de conteo de los ingredientes comprados para la preparación de la ensalada.

