



ÁREA: MATEMÁTICAS		DOCENTE: MARY LUCY MAYORGA MARÍA ELENA ORTIZ
ESTUDIANTE:		JORNADA: MAÑANA Y TARDE
SEDE: C - República de Israel	FECHA: 21 DE JULIO -2021	CURSO: TERCERO

Desempeño: Analiza y resuelve situaciones matemáticas, en donde practique las operaciones de suma, resta y multiplicación.

### ACTIVIDAD DE REFUERZO!!!

1. Marca la respuesta correcta en cada una de las multiplicaciones.

$4 \times 6$   
20 24 26

$9 \times 3$   
27 18 21

$6 \times 2$   
20 12 14

$3 \times 3$   
6 9 12

$4 \times 5$   
24 20 16

$5 \times 2$   
7 12 10

$7 \times 5$   
30 20 35


$7 \times 4$   
24 34 28

$5 \times 5$   
20 25 35

$5 \times 3$   
8 25 15

$4 \times 2$   
8 16 14

$6 \times 9$   
56 54 69






2. Realiza estas multiplicaciones.

$\begin{array}{r} 227 \\ \times 35 \\ \hline \square\square\square\square \\ + \square\square\square 0 \\ \hline \square\square\square\square \end{array}$	$\begin{array}{r} 356 \\ \times 52 \\ \hline \square\square\square \\ + \square\square\square\square 0 \\ \hline \square\square\square\square\square \end{array}$
--	---

3. Resuelve:

<p><b>María compra 18 paquetes de arroz, si cada paquete vale 3.640 pesos. ¿Cuánto paga por la compra?; si pasa \$70.000 ¿Cuánto le devuelven?</b></p>							
<table border="1" style="width: 100%; border-collapse: collapse;"> <thead> <tr> <th style="text-align: center; padding: 5px;">Operación</th> </tr> </thead> <tbody> <tr> <td style="text-align: center; padding: 5px;"> <math display="block">\begin{array}{r} 3.640 \\ \times 18 \\ \hline \square\square\square\square\square \\ \square\square\square\square\square \\ \hline \square\square\square\square\square \\ \square\square\square\square\square \\ \hline \square\square\square\square\square \end{array}</math> </td> </tr> </tbody> </table>	Operación	$\begin{array}{r} 3.640 \\ \times 18 \\ \hline \square\square\square\square\square \\ \square\square\square\square\square \\ \hline \square\square\square\square\square \\ \square\square\square\square\square \\ \hline \square\square\square\square\square \end{array}$	<table border="1" style="width: 100%; border-collapse: collapse;"> <thead> <tr> <th style="text-align: center; padding: 5px;">Respuesta</th> </tr> </thead> <tbody> <tr> <td style="padding: 5px;"> <p>María pagó _____ por la compra.</p> </td> </tr> <tr> <td style="padding: 5px;"> <p>Le devuelven _____</p> </td> </tr> <tr> <td style="text-align: center; padding: 10px;">  </td> </tr> </tbody> </table>	Respuesta	<p>María pagó _____ por la compra.</p>	<p>Le devuelven _____</p>	
Operación							
$\begin{array}{r} 3.640 \\ \times 18 \\ \hline \square\square\square\square\square \\ \square\square\square\square\square \\ \hline \square\square\square\square\square \\ \square\square\square\square\square \\ \hline \square\square\square\square\square \end{array}$							
Respuesta							
<p>María pagó _____ por la compra.</p>							
<p>Le devuelven _____</p>							
							

4. Completa el crucinúmero.

7 - 3 =								+ 2 =			
				+							
				5							
				=							
+ 1 =				6 + =							
- 2 =				- 5 =				+ 4 =			
								=			
								3			
- 2 =								- 3 =			
+								=			
3								+			
2 + =				- 5 =				+ 4 =			
- 3 =				- 3 + = 5 =							
+ 4 =											