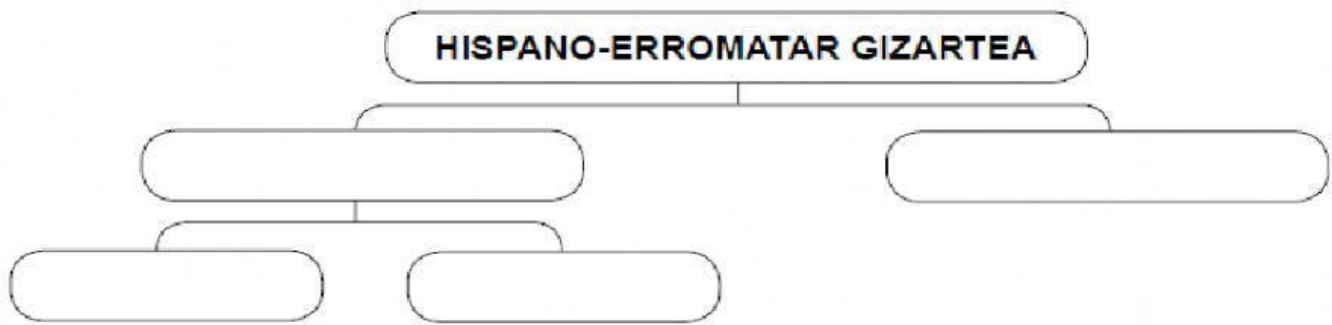
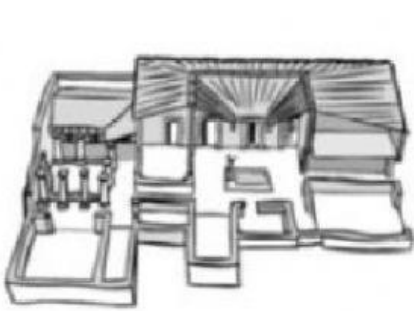



① Osatu hispano-erromatar gizarteari buruzko eskema.




② Hona hemen erromatarren etxebizitza mota batzuk. Idatzi zer den bakoitza.



[]



[]



[]

③ Lotu erromatar etxebizitza mota bakoitza dagokion deskribapenarekin.

Domus

... etxebizitza txikien eraikinak ziren, eta jende xumea bizi zen haietan.

Villa

... familia bakarreko etxebizitzak ziren, eta pertsona aberatsenak bizi ziren haietan.

Insulae

... aberatsen landetxe handiak ziren, eta hirietatik kanpo zeuden.

④ Idatzi goiko laukiko aukeren artean zuzena dena.

| | ERROMATAR ETXE BIZITZAK | | |
|--------------------------|-------------------------|------------------------|------------------------|
| | <i>Domus</i> | <i>Insulae</i> | <i>Villa</i> |
| Hemen zeuden: | landan / hirian | landan / hirian | landan / hirian |
| Hauek bizi ziren: | plebeioak / patrizioak | plebeioak / patrizioak | plebeioak / patrizioak |

| | ERROMATAR ETXE BIZITZAK | | |
|--------------------------|-------------------------|----------------|--------------|
| | <i>Domus</i> | <i>Insulae</i> | <i>Villa</i> |
| Hemen zeuden: | | | |
| Hauek bizi ziren: | | | |