

Lembar Kegiatan Peserta Didik (LKPD) Numerasi

Tema 1 sub tema 1 pembelajaran 3

Nama :

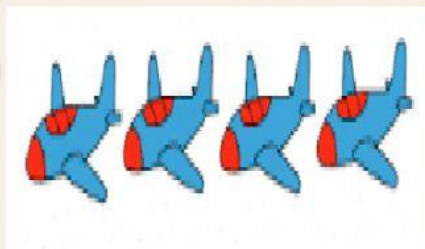
Kelas :

- A. Temukan pasangan gambar yang sama banyak dengan menarik garis!



- B. Pilihlah bilangan yang sesuai dengan banyaknya gambar!

1



5

7

4

2




8 5 2

3




3 6 1

4



7 10 8

5



9 6 7

6



4 3 2

7



5 6 7

9



8 9 4