



# LAS COORDENADAS

GEOGRAFÍA  
5ª PRIMARIA

NOMBRE: \_\_\_\_\_

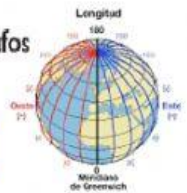
VE EL SIGUIENTE VIDEO PARA PODER CONTESTAR.

## COMPLETA

- ¿Qué nombre reciben las líneas imaginarias que forman parte del lenguaje que inventaron los cartógrafos y sirven, entre otras cosas, para ubicar un punto en el mapa?

O R

E G




¿Qué nombre recibe la distancia que hay entre un punto cualquiera y la línea del ecuador?

L D

¿Qué nombre recibe la distancia que hay entre un punto cualquiera y el meridiano Greenwich?

L D



¿Cuál es la unidad de medida en que se expresa la latitud y la longitud?

G S

¿Qué línea se encuentra a los 0° de latitud?

E R

## CONTESTA



Región Chala  
0 - 500 msnm


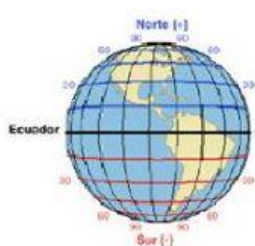
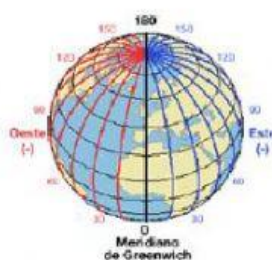
¿Qué nombre recibe la distancia vertical, medida en metros, de un lugar cualquiera, tomando como referencia el nivel del mar?

¿Cuál es la abreviatura para metros sobre el nivel del mar?

¿Dónde se encuentran las mayores altitudes de México?

¿Cuál es el nombre del cartógrafo que diseñó y desarrolló el primer atlas moderno?

## SELECCIONALA OPCIÓN QUE CORRESPONDA



Tiene una medida máxima de  $90^\circ$ . ☐

Empieza en el nivel del mar. ☐

Se mide en msnm. ☐

Puede ser este u oeste. ☐

Puede ser norte o sur. ☐

Tiene una medida máxima de  $180^\circ$ . ☐

Los polos son su punto máximo. ☐

Comienza en el meridiano de Greenwich. ☐

## ARRASTRA EL NOMBRE DEL CONTINENTE SEGÚN CORRESPONDAN LAS COORDENADAS

EUROPA

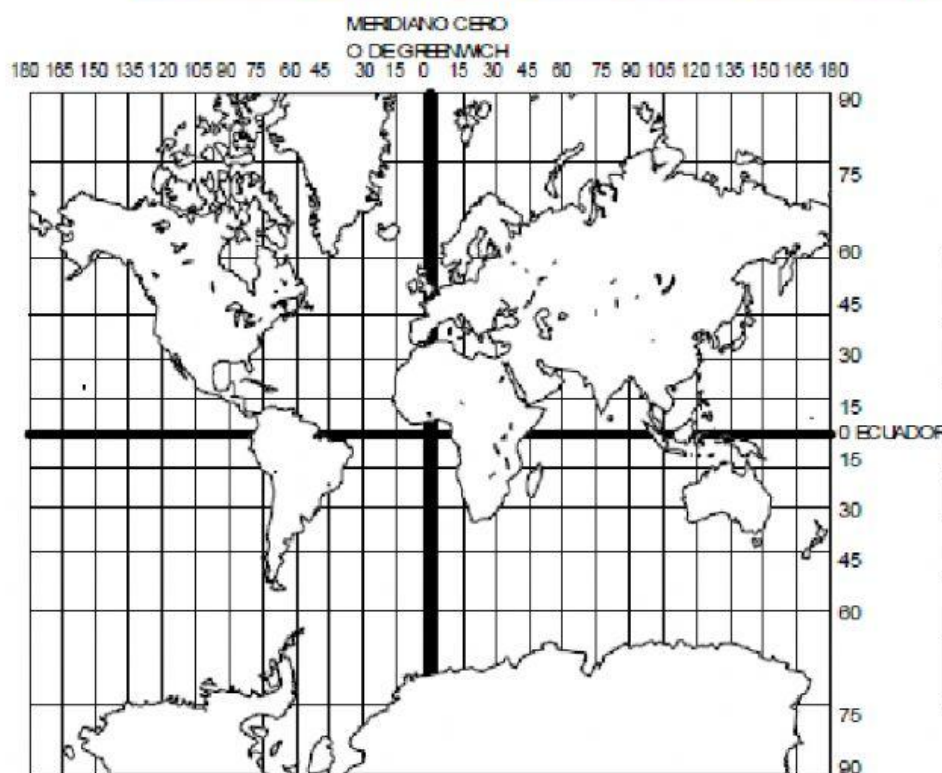
AMÉRICA

OCEANÍA

ÁFRICA

ANTÁRTIDA

ASIA

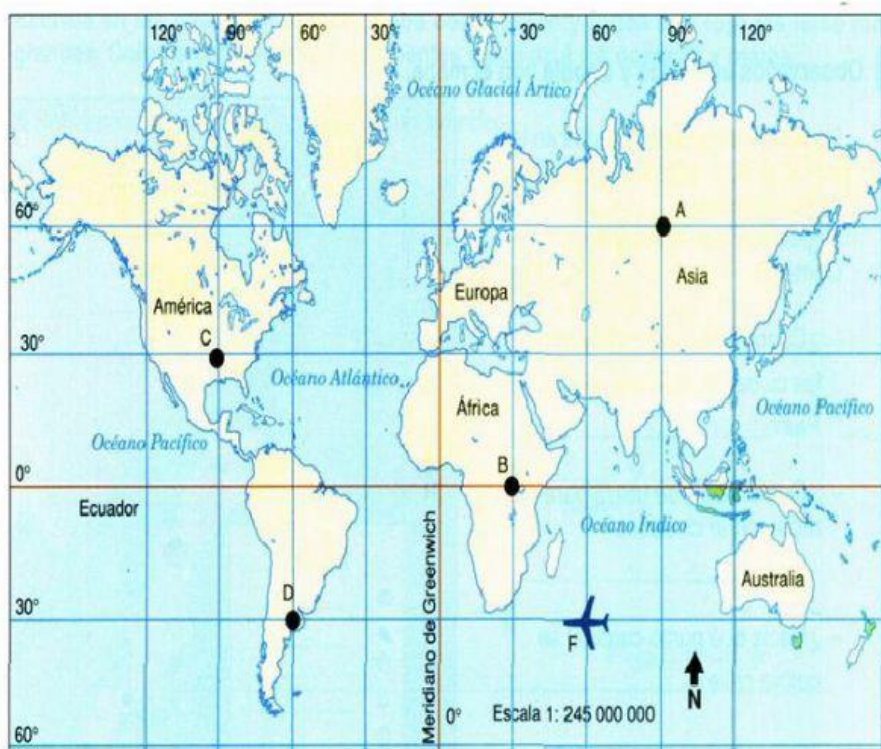


Latitud	Longitud	Continente
$60^\circ$ N	$120^\circ$ E	
$45^\circ$ N	$90^\circ$ O	
$15^\circ$ S	$30^\circ$ E	
$75^\circ$ S	$105^\circ$ E	
$45^\circ$ N	$15^\circ$ E	
$30^\circ$ S	$150^\circ$ E	

## SELECCIONA LA OPCIÓN CORRECTA

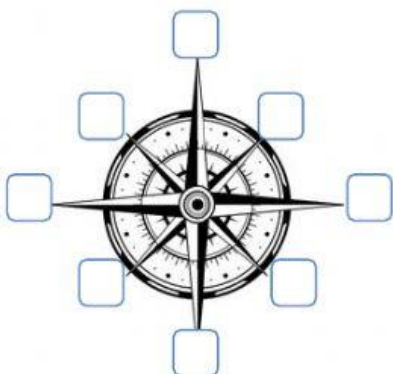
1. La \_\_\_\_\_ se mide en grados de  $0^\circ$  a  $90^\circ$  a partir del ecuador, corre de norte a sur.
2. La \_\_\_\_\_ se mide en grados de  $0^\circ$  a  $180^\circ$  a partir del meridiano de Greenwich y corre de este a oeste.
3. La \_\_\_\_\_ se mide en metros, tomando como punto de referencia el nivel del mar.

## COLOCA LAS COORDENAS DE LO QUE SE PIDE EN LA TABLA. GUÍATE DEL EJEMPLO



LETRA	LATITUD	LONGITUD
A	$60^\circ\text{N}$	$90^\circ\text{S}$
B		
C		
D		
F		

## ESCRIBE LAS ABREVIATURAS DE LAS COORDENADAS DONDE CORRESPONDA



N	Norte
S	Sur
E	Este
O	Oeste
NO	Noreste
SE	Sureste
NE	Noroeste
SO	Suroeste

