



LA TIERRA

GEOGRAFÍA
5ª PRIMARIA

NOMBRE: _____

✚ SI CREES NECESARIO VE EL SIGUIENTE VIDEO PARA PODER CONTESTAR.

✚ COLOCA EL NÚMERO SEGÚN CORRESPONDA

1.- Hace cuánto se formó la Tierra

() Ligeramente
inclinado

2.- Divide al planeta en dos partes
iguales. Al Norte y al Sur.

() Meridiano de
Greenwich

3.- Para localizar lugares en la superficie
terrestre qué se utiliza.

() Por su inclinación
del eje terrestre.

4.- Cómo es la trayectoria de la órbita de
la Tierra.

() Líneas imaginarias

5.- Cómo se encuentra eje terrestre.

() 4 600 millones de
años

6.- Cuánto es la inclinación del eje
terrestre.

() Geoide

7.- Cuál es la causa por la que en el
planeta existen diferentes temperaturas.

() Elíptica

8.- Atraviesa a la Tierra de polo a polo.

() Eje terrestre

9.- Forma que tiene realmente la Tierra.

() 23° 27'

10.- Divide a la Tierra en dos hemisferios.
Este y oeste.

() Ecuador



SELECCIONA LA RESPUESTA CORRECTA

La Tierra tiene forma _____ un poco achatada en los polos.

Para ubicar y localizar lugares en la superficie terrestre se utilizan como referencia _____ imaginarios que rodean al planeta de manera horizontal y de polo a polo.

Esta red permite ubicar con exactitud un lugar en la _____ terrestre.

El _____ atraviesa el planeta de polo a polo.

El eje es el punto de referencia para trazar los _____ imaginarios.

El _____ es el círculo imaginario que divide a la Tierra por la mitad.



IDENTIFICA LA RESPUESTA CORRECTA

→ El planeta Tierra tiene forma...

a) plana.

b) cuadrada.

c) esférica.

→ El eje terrestre se encuentra...

a) inclinado.

b) doblado.

c) acostado.

→ A partir del eje terrestre se pueden trazar puntos, líneas y...

a) mapas.

b) círculos imaginarios.

c) cuadrículas.

→ Los trópicos son líneas paralelas al...

a) meridiano de Greenwich.

b) Polo Norte.

c) ecuador.

→ Líneas que van de polo a polo y cruzan de forma perpendicular el ecuador son los...

a) paralelos.

b) círculos polares.

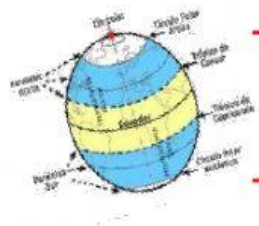
c) meridianos.

→ Las líneas imaginarias de la Tierra permiten...


a) localizar lugares.

b) dibujar los continentes.

c) trazar rutas de viaje.



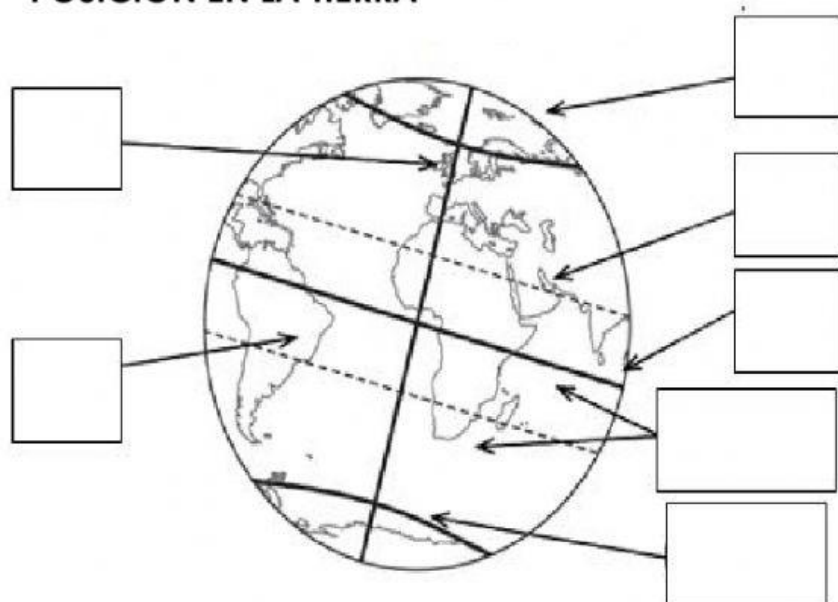
COLOCA LA LETRA DONDE CORRESPONDA



- ☐ Es la línea que divide la tierra en hemisferio norte y sur, justo por el centro del planeta.
- ☐ Es la línea que corre paralela al ecuador sobre el hemisferio norte.
- ☐ Son las líneas que van de polo a polo.
- ☐ Es el meridiano que divide la tierra en este y oeste.
- ☐ Se encuentra ubicado en el polo sur.
- ☐ Es la línea que corre paralela al ecuador sobre el hemisferio sur.
- ☐ Se encuentra ubicado en el polo norte.

- A. Círculo Polar Ártico
- B. Meridianos
- C. Ecuador
- D. Trópico de Cáncer
- E. Meridiano de Greenwich
- F. Círculo Polar Antártico
- G. Trópico de Capricornio

AHORA ESCRIBE LA LETRA SEGÚN SU POSICIÓN EN LA TIERRA



- A. Círculo Polar Ártico
- B. Meridianos
- C. Ecuador
- D. Trópico de Cáncer
- E. Meridiano de Greenwich
- F. Círculo Polar Antártico
- G. Trópico de Capricornio

