






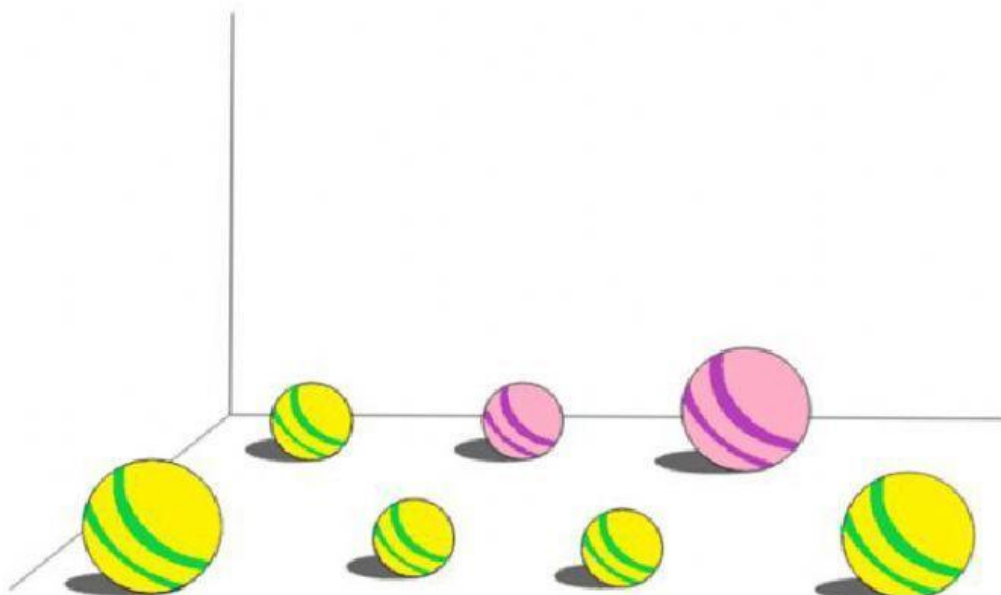
PRUEBA DIAGNÓSTICA MATEMÁTICA

CONOZCAMOS NUESTROS APRENDIZAJES

- 1) Presiona  todos los lápices que son del mismo color.

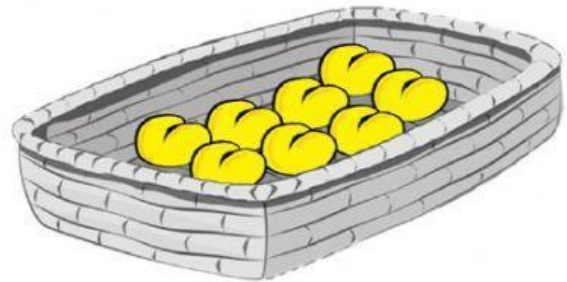
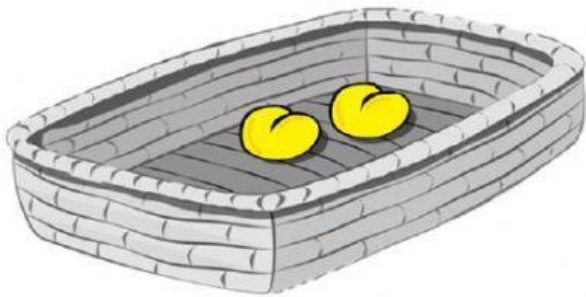


- 2) Presiona  todas las pelotas pequeñas.




3 ¿En cuál de las canastas hay muchos panes?

Presiona  tu respuesta.



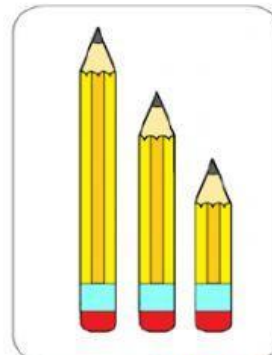
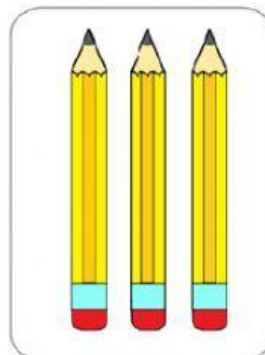
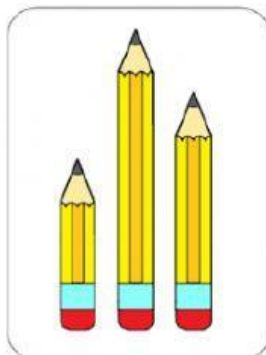
4 ¿Cuál de las sillas es la de tamaño mediano?

Presiona  tu respuesta.




5 ¿Cuál grupo de lápices está ordenado del más largo al más corto?

Presiona  tu respuesta.

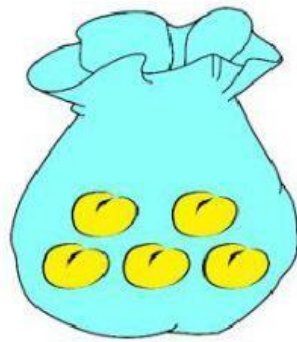


- 6 Estas niñas entrarán al salón respetando el orden de la fila que muestra la figura.
¿Cuál de las niñas entrará en **tercer lugar**?

Presiona  tu respuesta.



- 7 Luis tenía una bolsa con panes. Observa.



Luego, Luis sacó tres panes de la bolsa.



Ahora, arrastra a la bolsa la cantidad de panes que quedaron.



8 ¿Cuál de los estudiantes está **detrás** de la banca?

Presiona  tu respuesta.





9 Observa las tazas que hay en la mesa.



¿En cuál grupo la cantidad de cucharas es la **misma** que la cantidad de tazas que hay en la mesa?

Presiona  tu respuesta.



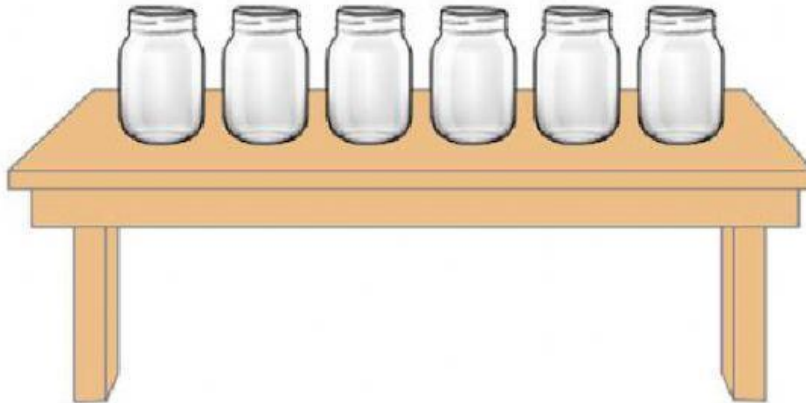
10 Estos niños subirán a la resbaladera respetando el orden de la fila que muestra la figura.

¿Cuál de los niños subirá **último** a la resbaladera?

Presiona  tu respuesta.



11 Observa los frascos de vidrio que hay en la mesa.



Presiona  la cantidad de tapas que se necesita para tapar todos los frascos de la mesa.



3

6

5

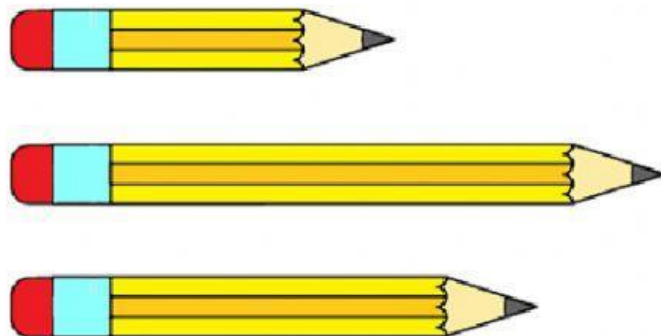
(12) ¿Cuál de los juguetes está **debajo** de la mesa?

Presiona  tu respuesta.






(13) ¿Cuál es el lápiz **más largo**?


Presiona  tu respuesta.


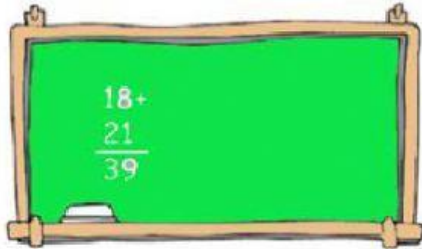



(14) Mateo necesita cinco estrellas para decorar un cartel.

Presiona  el recuadro que tenga solo **cinco** estrellas.







15 Une  con una línea cada objeto con la figura a la que se parece.

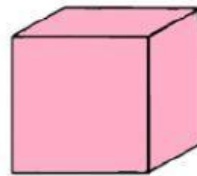

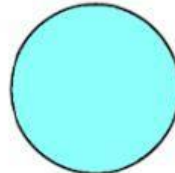


16 ¿Cuál de los grupos tiene más lápices que borradores?

Presiona  tu respuesta.



17) Une  con una línea cada objeto con la figura a la que se parece.



18) ¿Cuál de los platos tiene **pocas** galletas?

Presiona  tu respuesta.

