

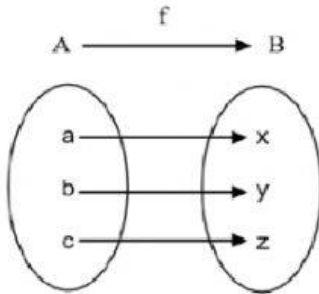
Nivel 8vo básico

**Docente:** Camila Pastenes Saavedra

**Correo:** [cpastenes1991@gmail.com](mailto:cpastenes1991@gmail.com)

Escribe en el recuadro **“Si”** o **“No”** dependiendo si el diagrama sagital representa o no a una función. Si es una función, entonces escribe su **dominio** y **recorrido**.

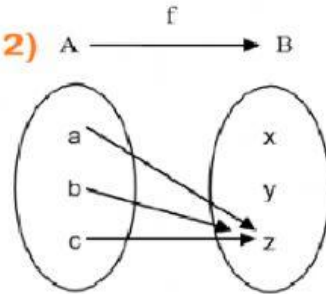
1)



**Domf(x)**

**Recf(x)**

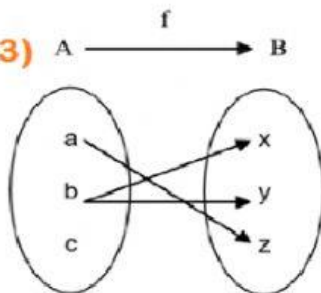
2)



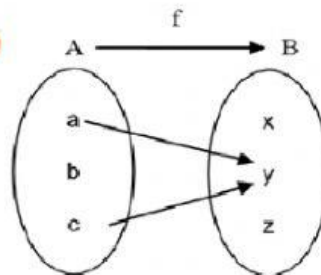
**Domf(x)**

**Recf(x)**

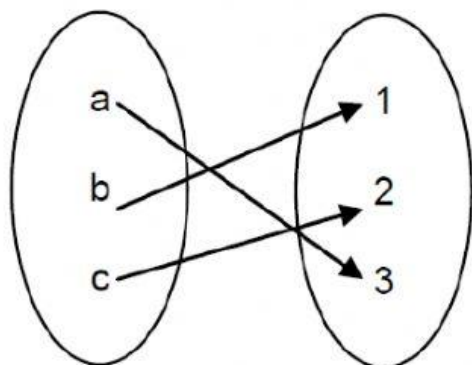
3)



4)



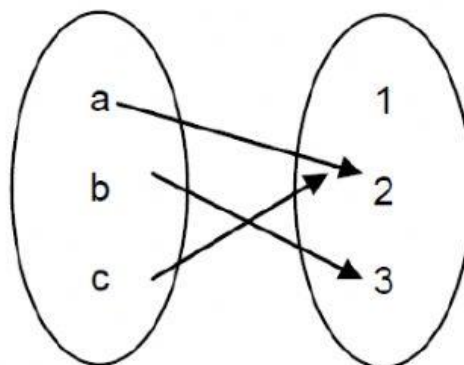
5)

$$A \xrightarrow{m} B$$



Domf(x)

Recf(x)

6)

$$A \xrightarrow{n} B$$



Domf(x)

Recf(x)