




SIMETRÍA

1. ¿Qué figuras no son simétricas respecto a la recta? Marca



2. Observa las figuras y contesta.




FIGURA A




FIGURA B




FIGURA C

- ¿La figura B es simétrica de la figura A respecto del eje 1?

- ¿La figura C es simétrica de la figura B respecto del eje 2?

3. Observa las figuras y contesta.

- a. Dibuja la figura simétrica de A respecto al eje rojo. Obtendrás la figura B.
- b. Dibuja la figura simétrica de B respecto al eje verde. Obtendrás la figura C.
- c. Dibuja la figura simétrica de C respecto al eje rojo. Obtendrás la figura D.

