







I.E.P NUESTRA SEÑORA DE GUADALUPE

PRACTICA CALIFICADA



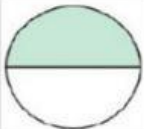


"FRACCIONES"

1- OBSERVA LA GRÁFICA Y ESCRIBE EL NÚMERO Y SU NOMBRE

 <input type="text"/>	 <input type="text"/>	 <input type="text"/>	 <input type="text"/>
---	---	--	---

2- MARCA LA REPRESENTACIÓN CORRECTA

	$\frac{3}{3}$	$\frac{2}{3}$	$\frac{2}{2}$
	$\frac{1}{3}$	$\frac{1}{2}$	$\frac{3}{3}$
	$\frac{1}{1}$	$\frac{1}{3}$	$\frac{1}{2}$

3- LEE Y ESCRIBE LA REPRESENTACIÓN

Tres octavos



Un tercio



Cuatro novenos



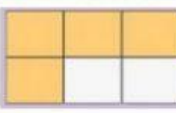

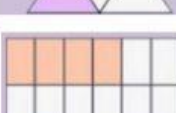
Tres séptimos



4- ESCRIBE EL NOMBRE DE LAS GRÁFICAS

	<input type="text"/>
	<input type="text"/>
	<input type="text"/>

5- MARCA LA REPRESENTACIÓN CORRECTA

	$\frac{4}{12}$	<input type="text"/>
	$\frac{2}{4}$	<input type="text"/>
	$\frac{4}{6}$	<input type="text"/>

6- MARCA LA GRÁFICA CORRECTA

$\frac{3}{6}$

