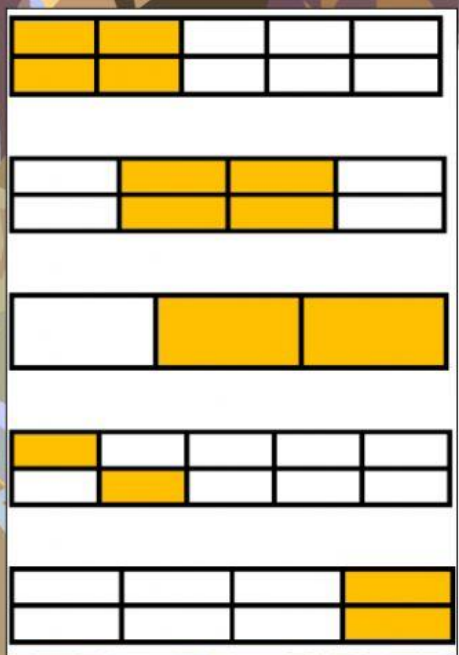
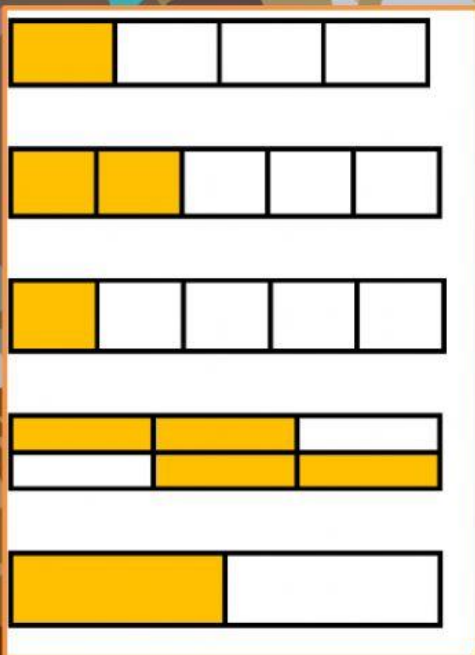
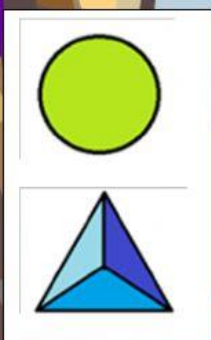


Perhatikan video berikut menit ke 0:58 s.d 3:58

Cocokkan gambar pecahan di bawah dengan menarik garis dari gambar pecahan yang



Letakkan gambar pada kotak yang memiliki pecahan senilai



$\frac{1}{3}$



$\frac{4}{4}$

Jawab dengan menekan dan mengucap senilai atau tidak senilai pada titik



$\frac{2}{3}$

$\frac{2}{4}$

.....

.....

.....

$\frac{1}{3}$

$\frac{4}{6}$

$\frac{2}{8}$