






# EXAMEN MENSUAL II DE PS

Arrastra EL NOMBRE que corresponde para cada imagen:

		
INCENDIO FORESTAL		TSUNAMI
INUNDACIÓN	TERREMOTO	HUAYCO
		

Relaciona el TIPO de desastre natural con el concepto correspondiente:

- A. HIDROLÓGICO
- B. METEREOLÓGICO
- C. GEOFÍSICOS
- D. BIOLÓGICOS

<input type="checkbox"/>	Relacionadas con el clima
<input type="checkbox"/>	Surgen de las entrañas del planeta Tierra.
<input type="checkbox"/>	Causados por animales.
<input type="checkbox"/>	Se originan en el agua.

Arrastra las MEDIDAS DE SEGURIDAD antes, durante y después de un sismo (terremoto) en el recuadro según corresponda:

Verificar que estén señaladas las rutas de evacuación

Mantener la calma

Evitar regresar al edificio.

Dirigirse a un lugar seguro

ANTES DEL SISMO	DURANTE EL SISMO	DESPUES DEL SISMO
<div></div>	<div></div> <div></div>	<div></div>

OBSERVA EL SIGUIENTE CROQUIS Y RESPONDE:



Da click en la opción que completa cada oración de acuerdo al croquis.

1. La escuela se encuentra al lado \_\_\_\_\_ de la cafetería.

enfrente

atrás

derecho

2. La casa de Ana está junto al parque, del lado \_\_\_\_\_.

izquierdo

enfrente

atrás

3. El supermercado está \_\_\_\_\_ de la escuela.

atrás

enfrente

derecha

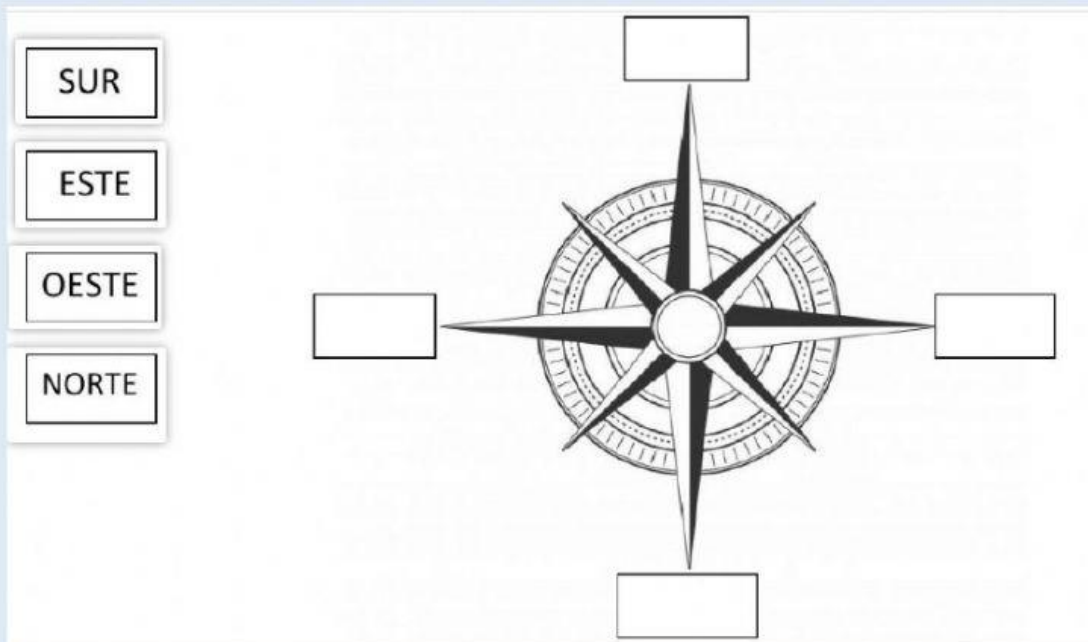
4. \_\_\_\_\_ del parque se encuentra el supermercado.

Atrás

Enfrente

A la izquierda

Arrastra los puntos cardinales según correspondan a la brújula:



Completa las palabras que faltan:

Por el \_\_\_\_\_ sale el sol.

Por el \_\_\_\_\_ se oculta.



Guíate del dibujo y completa:

Son las 6 am y el sol está saliendo

1. La **ciudad** está al

2. El **sol** está al

3. El **árbol** está al

4. La **laguna** está al



Escribe en los recuadros las iniciales de los puntos cardinales (N) norte, (S) sur, (E) este y (O) oeste: Teniendo en cuenta que recién está saliendo el sol.

