

**Tajuk : ketumpatan ( timbul dan tenggelam) - tahun 3**

**Nama :**

**Kelas :**

**Sila tonton video sebelum menjawab soalan**



**Jawab soalan dibawah dengan betul.**

1. Objek yang lebih tumpat akan

2. Objek yang kurang tumpat akan

**3. Pilih 'timbul' atau 'tenggelam' apabila objek berikut dimasukkan ke dalam air.**



timbul

tenggelam



timbul

tenggelam




timbul

tenggelam



timbul

tenggelam




timbul

tenggelam



timbul

tenggelam




timbul

tenggelam



timbul

tenggelam



timbul

tenggelam



timbul

tenggelam