

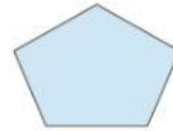
## HOJA PA EXPLICACIÓN DE LIVEWORKSHEETS

- Cuadros interactivos para rellenar

- Escribe como se llama el polígono de 5 lados

- Ejercicios selección múltiple

- Selecciona el nombre correcto de este polígono:



DECÁGONO

HEXÁGONO

PENTÁGONO

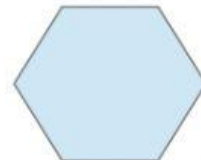
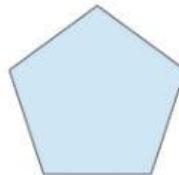
HEPTÁGONO

- Ejercicios de unir con flechas

- Une con flechas las siguientes afirmaciones:

- |                |                            |
|----------------|----------------------------|
| ▪ Triángulo    | Polígono de seis lados     |
| ▪ Cuadrilátero | Polígono de de cinco lados |
| ▪ Pentágono    | Polígono de tres lados     |
| ▪ Hexágono     | Polígono de cuatro lados   |

- Ejercicios de arrastrar y soltar



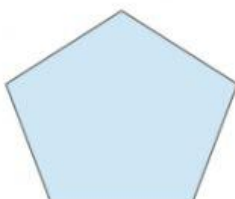
HEXÁGONO

TRIÁNGULO

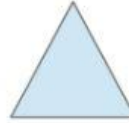
CUADRADO

PENTÁGONO

- Ejercicio con cuadros desplegables



- Ejercicio de escucha o listening



- Ejercicio hablado o speaking

El es un polígono de 5 lados.

- Copiar un video de Youtube

- Añadir enlaces mp3:

- Añadir enlaces de otras páginas web

- [Click here](#) y descubre el asombroso mundo de las matemáticas

- **Ejercicios de respuesta libre**