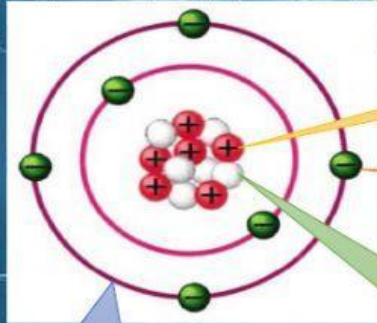


NAMA LENGKAP :

KELAS :

Letakkan pilihan jawaban sesuai dengan kotak yang menunjukkan gambar bagian-bagian struktur atom dengan tepat!



ELEKTRON

PROTON

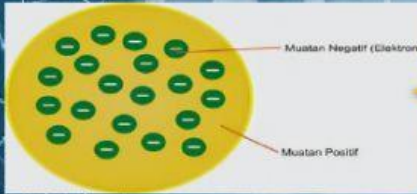
NEUTRON

LINTASANELEKTRON

Tariklah garis  pada model atom yang sesuai dengan penemu Teori tentang model atom berikut ini!



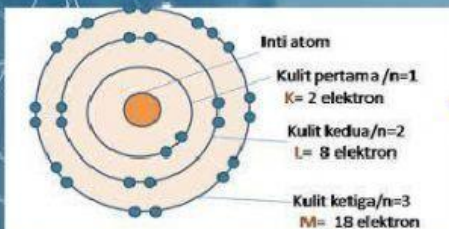
DALTON



THOMSON



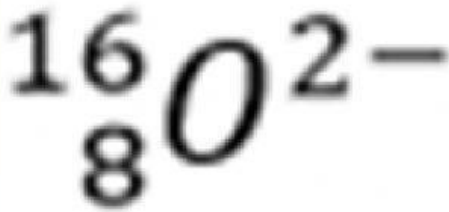
BOHR



RUTHERFORD



Dari identitas atom berikut ini dapat disimpulkan bahwa ....



1. Dalam inti atom O terdapat elektron.
2. Dalam inti atom O terdapat proton.
3. Pada atom O terdapat neutron.
4. Nomor atom O adalah
5. Nomor Massa O adalah