





## Igualdades y desigualdades

Completa con los  
símbolos mayor que  $>$ ,  
menor que  $<$  e igual  
que  $=$ .


---

$$25 + 14 \quad \square \quad 10 + 30$$


---

$$54 - 14 \quad \square \quad 15 + 25$$


---

$$32 - 16 \quad \square \quad 10 - 8$$


Escribe en el espacio  
un número que haga  
verdadera la relación.

---

•  $5 + \square > 10$

•  $8 + \square < 9$

•  $10 - \square = 10$

•  $25 + \square > 25$

•  $36 - \square < 2$