



PARTES DEL TECLADO


1.- Completa el nombre de la parte del teclado en referencia.



TECLAS ALFANUMÉRICAS



TECLAS NUMÉRICAS



TECLAS DE CONTROL

2.- Relaciona cada parte del teclado con el nombre que le corresponde



A) teclas numéricas



B) teclas alfanuméricas



C) teclas de edición



D) teclas de dirección



E) teclas de función