


Anak-anak berikut saya sampaikan soal-soal yang bertujuan untuk menguji kemampuan Kognitif anak-anak.

Soal-soal tersebut terdiri dari Mata Pelajaran Matematika, Bahasa Indonesia dan IPA yang sudah diajarkan di kelas 3 dan akan diajarkan di kelas 4.

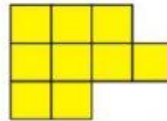
KERJAKAN SOAL-SOAL DI BAWAH INI !

Matematika :

1. Keliling gambar di samping adalah cm




2. Keliling gambar di samping adalah cm



3. Keliling gambar di samping adalah cm



4.  Gambar di samping merupakan sudut

5.  Gambar di samping merupakan sudut

6. $\frac{2}{8} + \frac{2}{8} = \dots$

7. $\frac{1}{6} + \frac{4}{6} = \dots$

8. $\frac{4}{8}$ Jika disederhanakan menjadi

9. $2\frac{4}{5}$ Jika dibuat pecahan biasa menjadi ...

10. Bentuk desimal dari 30% adalah ...