

LEMBAR KERJA PESERTA DIDIK

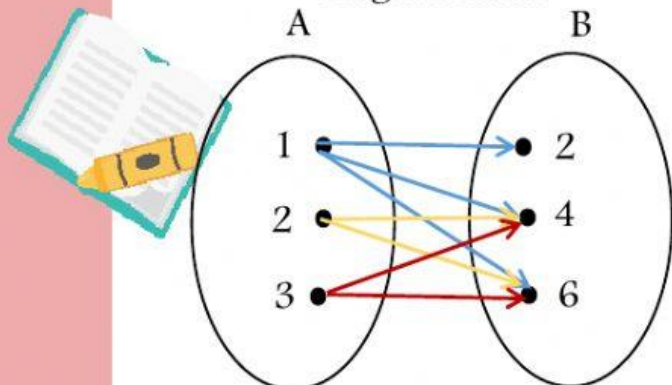
Kelas VIII
Materi Relasi

Nama:

Kelas:

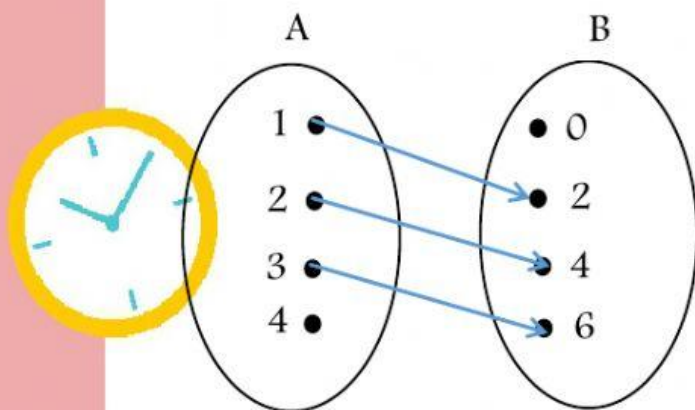
Pasangkan diagram panah berikut dengan relasi yang tepat dari himpunan A ke himpunan B.

Diagram Panah

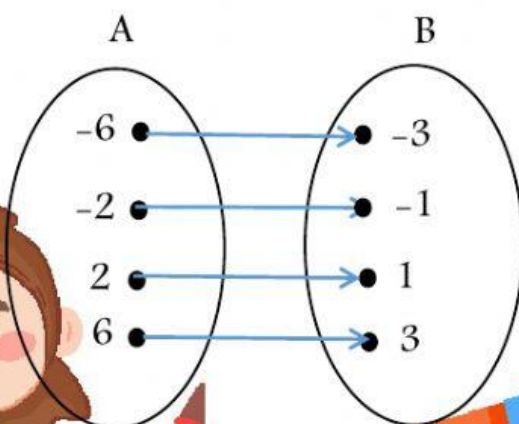


Relasi A ke B

"dua kalinya dari"



"kurang dari"

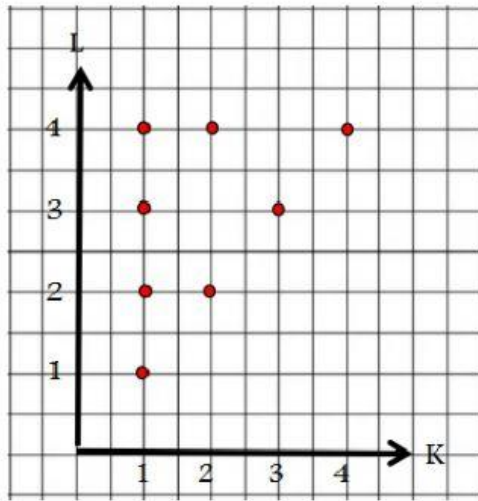


"setengah dari"



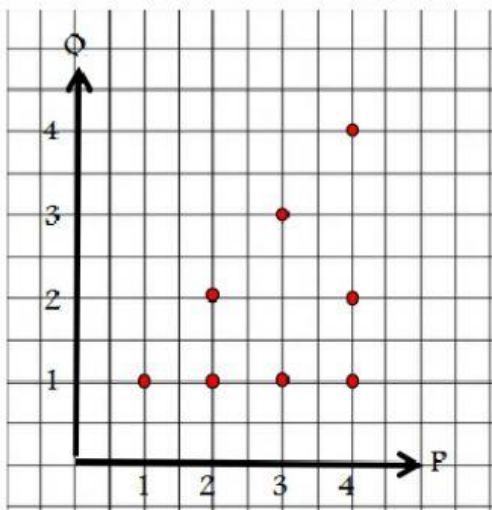
Pilihlah satu jawaban yang tepat.

1. Relasi yang tepat dari himpunan pada diagram kartesius berikut adalah . . .



- A. faktor dari
- B. kelipatan dari
- C. kurangnya dari
- D. lebihnya dari

2. Himpunan pasangan berurutan yang tepat berdasarkan relasi pada diagram kartesius berikut adalah . . .



- A. $\{(1, 1), (2, 2), (3, 3), (4, 4)\}$
- B. $\{(1, 1), (2, 1), (3, 1), (4, 1)\}$
- C. $\{(1, 1), (2, 1), (2, 2), (3, 1), (3, 3), (4, 1), (4, 2), (4, 4)\}$
- D. $\{(1, 1), (1, 2), (1, 3), (1, 4), (2, 2), (2, 4), (3, 3), (4, 4)\}$

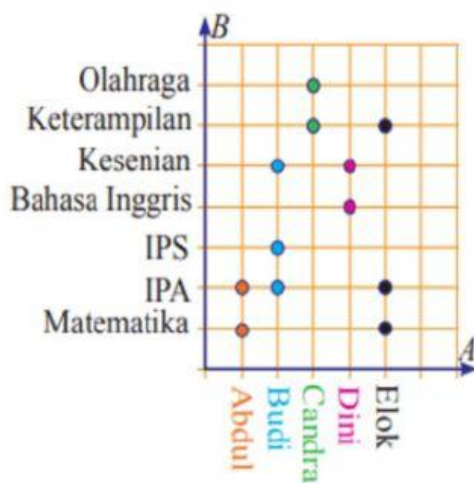
3. Himpunan pasangan berurutan yang menyatakan relasi "dua lebihnya dari" dari himpunan $P = \{4, 5, 6\}$ ke himpunan $Q = \{1, 2, 3, 4, 5, 6, 7, 8\}$ adalah . . .

- A. $\{(2, 4), (3, 5), (4, 6)\}$
- B. $\{(4, 2), (5, 3), (6, 4)\}$
- C. $\{(4, 6), (5, 7), (6, 8)\}$
- D. $\{(6, 4), (7, 5), (8, 6)\}$

4. Diketahui himpunan $A = \{3, 4, 5, 6\}$ dan himpunan $B = \{9, 10, 11, 12, 13, 14, 15\}$. Relasi dari himpunan A ke himpunan B dinyatakan dengan himpunan pasangan berurutan $\{(3, 9), (4, 12), (5, 15)\}$. Relasi yang tepat dari himpunan A ke himpunan B adalah

- A. kelipatan dari
- B. kuadrat dari
- C. tiga kalinya dari
- D. sepertiganya dari

Perhatikan diagram kartesius berikut.



Anak yang menyukai pelajaran kesenian adalah

Pelajaran yang disukai oleh Budi adalah

Banyak anak yang menyukai pelajaran matematika adalah

Terima kasih sudah
mengerjakan
dengan baik.)

