



Evaluación de Matemáticas 3 (Adaptada)

Nombre: Arantza González Román.

Curso: 3ºB


Fecha: 08/07/2021

<u>Objetivos:</u> -Identificar números representados en decenas. -Reconocer números escritos en palabras y viceversa. -Completar secuencia de números de 10 en 10.	Puntaje ideal: 19 puntos Porcentaje: 50% Puntaje real: puntos Nota:
---	--

Instrucciones: **Escucha** las siguientes preguntas y **escoge** la alternativa correcta.


1. ¿Qué número representan las siguientes barras?

- a) 40
- b) 50
- c) 30




2. ¿Qué número representan las siguientes barras?

- a) 50
- b) 70
- c) 90



3. ¿Qué número representan las siguientes barras?

- a) 10
- b) 80
- c) 60





4. ¿Cómo se escribe en palabras el número 40?

- a) Veinte
- b) Treinta
- c) Cuarenta

5. ¿Cómo se escribe en palabras el número 60?

- a) Diez
- b) Sesenta
- c) Cincuenta

6. "Veinte" se escribe:

- a) 20
- b) 30
- c) 10

7. "Noventa" se escribe:

- a) 50
- b) 90
- c) 70

8. Completa la secuencia con los números que faltan:

10		30	
----	--	----	--

20

50

60

40



9. Completa la secuencia con los números que faltan:

50		70	
----	--	----	--

60

10

80

90

10. Completa la secuencia con los números que faltan:

60	70	80	
----	----	----	--

10

90

20

30