


Fecha. -

Nombre: _____ 5to: _____

MATEMÁTICA


Tema: Nociones de multiplicación.

1.- completa las operaciones.




$$\square + \square + \square + \square + \square = \square$$

$$\square \text{ Veces } \square = \square$$




$$\square + \square + \square = \square$$

$$\square \text{ Veces } \square = \square$$



$$\square + \square + \square = \square$$

$$\square \text{ Veces } \square = \square$$



$$\square + \square + \square + \square = \square$$

$$\square \text{ Veces } \square = \square$$