



Evaluación de Historia 2 (Adaptada)

Nombre: Arantza González Román.

Curso: 3ºB

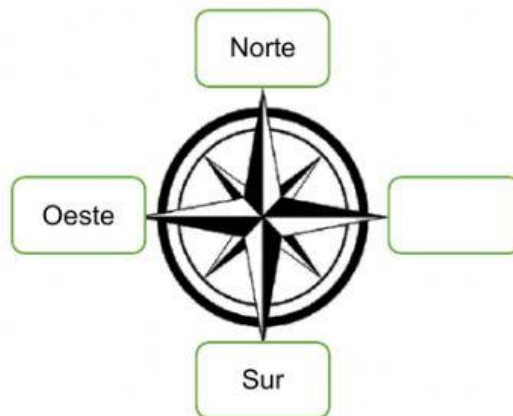
Fecha: 06/07/2021

<u>Objetivos:</u> -Reconocer los puntos cardinales. -Identificar posición de objetos en una cuadrícula. -Ubicar objetos en una cuadrícula.	Puntaje ideal: 20 puntos Porcentaje: 50% Puntaje real: puntos Nota:
---	--

Instrucciones: **Escucha** las siguientes preguntas y **escoge** la alternativa correcta.

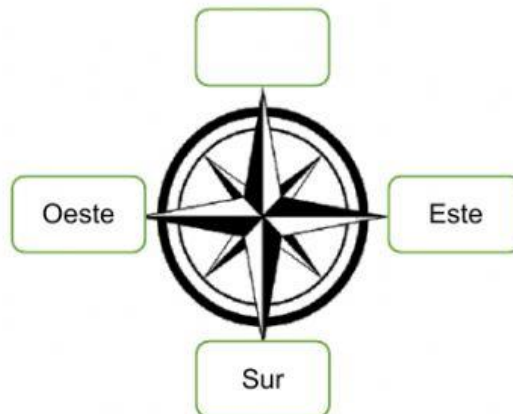
1. Completa la rosa de los vientos con el punto cardinal que le falta:

- a) Norte
- b) Sur
- c) Este



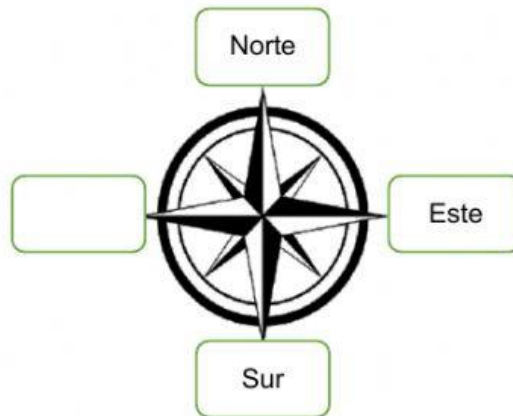
2. Completa la rosa de los vientos con el punto cardinal que le falta:

- a) Norte
- b) Sur
- c) Este



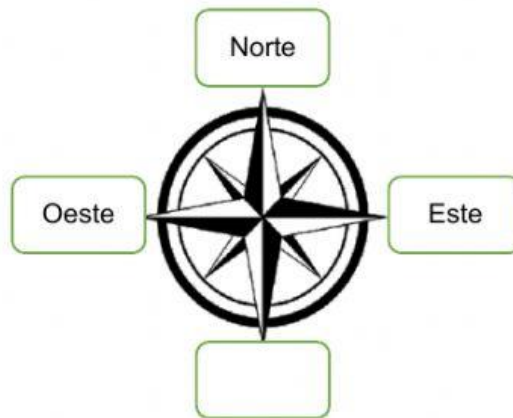
3. Completa la rosa de los vientos con el punto cardinal que le falta:

- a) Norte
- b) Oeste
- c) Este



4. Completa la rosa de los vientos con el punto cardinal que le falta:

- a) Norte
- b) Sur
- c) Este







5. ¿Cuál es la ubicación del "viejito pascuero" en la cuadrícula?

- a) B2
- b) D4
- c) C1

	A	B	C	D
1				
2				
3				
4				


6. ¿Cuál es la ubicación de la “pelota navideña” en la cuadrícula?

- a) B3
- b) A1
- c) D2

	A	B	C	D
1				
2				
3				
4				

7. ¿Cuál es la ubicación del “pingüino” en la cuadrícula?

- a) D3
- b) B2
- c) A4

	A	B	C	D
1				
2				
3				
4				

8. Ubica a la manzana en **C3**



	A	B	C	D
1				
2				
3				
4				

9. Ubica a la manzana en **B1**



	A	B	C	D
1				
2				
3				
4				

10. Ubica a la manzana en **A2**



	A	B	C	D
1				
2				
3				
4				