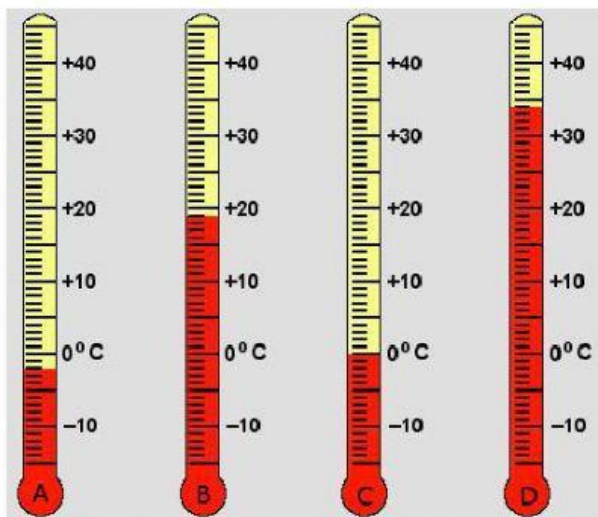


GUÍA DE EJERCITACIÓN: NÚMEROS ENTEROS SEPTIMO BÁSICO 2021

1. Escribe el número entero que representa cada situación.

- a) La temperatura en la cumbre es de treinta y dos grados bajo cero: _____
- b) Por cada pregunta que aciertas en el test, obtienes 3 puntos: _____
- c) Hemos estacionado la moto en el sótano 2 del garaje: _____
- d) Al final del día hay \$10.000 en la caja registradora de la tienda: _____
- e) Juan vive en un séptimo piso: _____
- f) El sótano está en el primer piso bajo tierra: _____
- g) Aumentó dos grados la temperatura: _____
- h) Cien metros bajo el nivel del mar: _____

2. ¿Qué temperatura marca cada termómetro?



A) _____

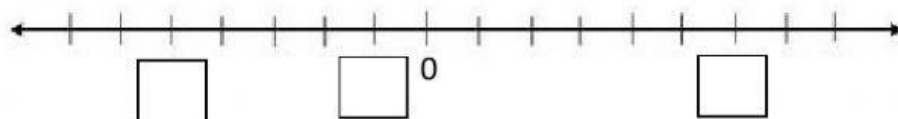
B) _____

C) _____

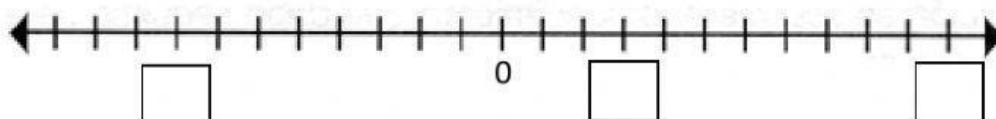
D) _____

3. Ubica cada número entero en la recta numérica.

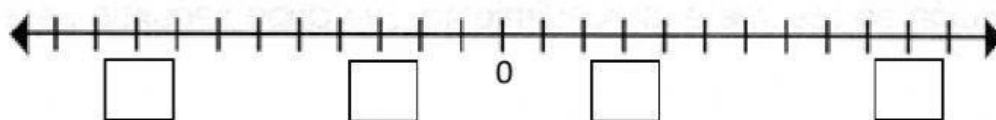
a) -5, -1, 6



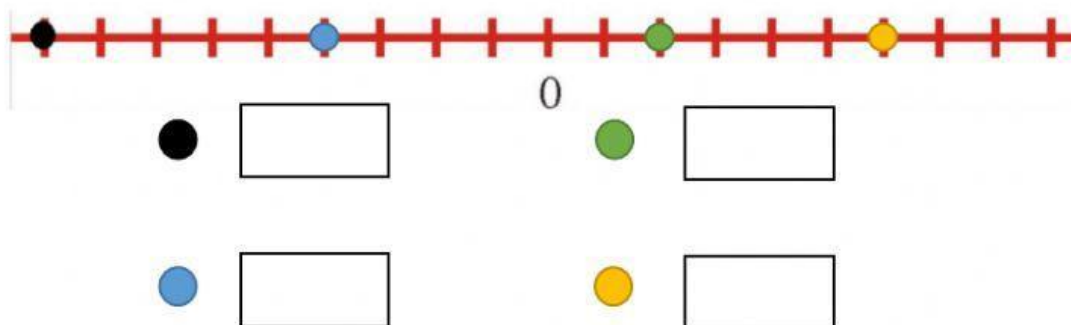
b) 11, -8, 3



c) -9, -3, 3, 10



4. Identifica los números marcados en la recta numérica.



5. Coloca cada número en el lugar correspondiente.

6 -3

Enteros positivos	Enteros negativos