

LEMBAR KERJA PESERTA DIDIK

NAMA :

KELAS :

Mata Pelajaran : GEOGRAFI

Kelas : XI

Materi : Sebaran Flora dan Fauna




Kerjakan LKPD Berikut :

1. Faktor abiotik yang mempengaruhi adanya perbedaan tanaman xerofit, mesofit, hidrofit dan tropofit adalah
 - a. Topografi wilayah
 - b. Kesuburan tanah
 - c. Kelembapan Udara
 - d. Letak Lintang
 - e. Organisme
2. Mayoritas jenis tumbuhan yang hanya hidup di daerah tundra adalah ..
 - a. Pinus dan cemara
 - b. Jati dan beringin
 - c. Lumut dan rerumputan
 - d. Kaktus dan rerumputan
 - e. Paku pakuan dan pohon memanjat
3. Garis weber merupakan garis imajiner yang membatasi wilayah flora dan fauna di Indonesia bagian tengah dengan Indonesia bagian timur
 - Benar
 - Salah

4. Pasangkan Jenis bioma dibawah ini !

	<ol style="list-style-type: none"> 1. Curah hujan tinggi 2. Pohon-pohonnya besar dan tutupan daunnya lebar 3. Hewan cirri khas Orang utan, harimau 4. Tumbuhan khas Liana dan anggrek
	<ol style="list-style-type: none"> 1. Curah hujan rendah 2. Suhu cenderung hangat sepanjang tahun 3. Tumbuhan khas rumput, akasia palem 4. Hewan khas gajah, jerapah, singa
	<ol style="list-style-type: none"> 1. Curah hujan merata sepanjang tahun 2. Tumbuhan menggugurkan daunnya 3. Hewan khas beruang, rusa dan tupai 4. Tumbuhan khas sakura, maple jati

5. Drop and drag gambar dibawah ini !

		
Kawasan Barat	Kawasan Peralihan	Kawasan Timur