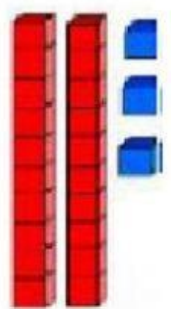
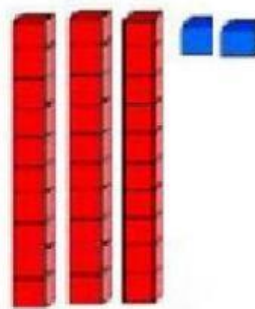
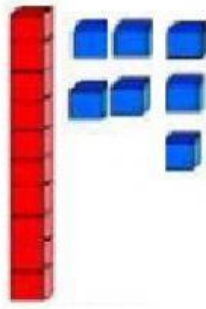
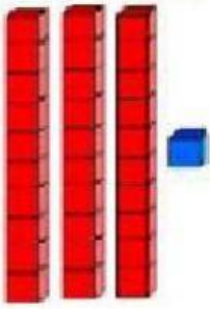


## DESAFÍO

Une cada número con su representación gráfica.



17

32

31

23

Arrastra las familias de números al lugar correcto para completar el cuadro numérico.

0	1	2	3	4	5	6	7	8	9
10									
20									
30									
40									

21 22 23 24 25 26 27 28 29

31 32 33 34 35 36 37 38 39

11 12 13 14 15 16 17 18 19

Lee los carteles y arrástralos al dibujo correcto.



lima

mula

foca

sapo

muela

sopa

Armo las palabras con las letras móviles.



m a t s l a

\_\_\_\_\_



m f t i o o

\_\_\_\_\_



s l a p m a

\_\_\_\_\_

