

**ESCOLA MUNICIPAL CONSELHEIRO JOSINO**

**LABORATÓRIO DE TECNOLOGIAS DIGITAIS**

**Turma:** 5º ano

**Aluno (a):**

**Data:**

**Professor (a):** Andréa Jardim


**Código:** EF05MA17

**Campo do Conhecimento:** Matemática

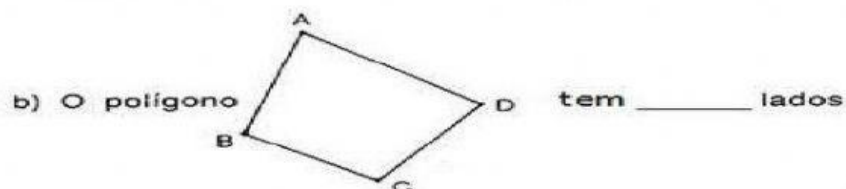
## POLÍGONOS

| NOME  | Triângulo | Quadrilátero | Pentágono | Hexágono | Heptágono | Octógono | Eneágono | Decágono |
|-------|-----------|--------------|-----------|----------|-----------|----------|----------|----------|
| LADOS | 3         | 4            | 5         | 6        | 7         | 8        | 9        | 10       |

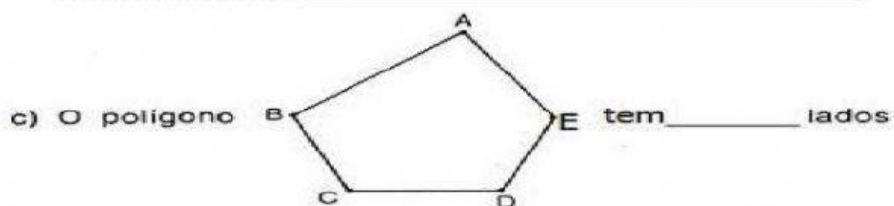
**1- Observe cada polígono e complete:**



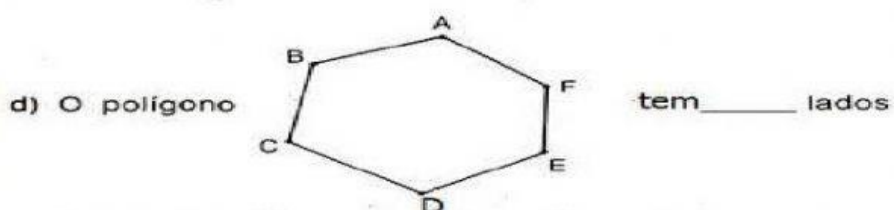
É chamado de \_\_\_\_\_



É chamado de \_\_\_\_\_



É chamado de \_\_\_\_\_



É chamado de \_\_\_\_\_

**2- Complete a 2ª coluna de acordo com a 1ª**

|                           |               |
|---------------------------|---------------|
| (A) Polígonos de 5 lados  | ( ) eneágono  |
| (B) Polígonos de 6 lados  | ( ) hexágono  |
| (C) Polígonos de 7 lados  | ( ) decágono  |
| (D) Polígonos de 8 lados  | ( ) pentágono |
| (E) Polígonos de 9 lados  | ( ) heptágono |
| (F) Polígonos de 10 lados | ( ) octógono  |

**3- Quantos lados tem?**

- |                    |                       |
|--------------------|-----------------------|
| a) pentágono? ____ | b) quadrilátero? ____ |
| c) hexágono? ____  | d) decágono? ____     |