


# แบบฝึกหัด 1.4

1) วงล้อมรอบภาพแสดงการนับทีละ 10 และเขียนตัวเลขแสดงจำนวน

1)



รถยนต์ของเล่น ..... คัน

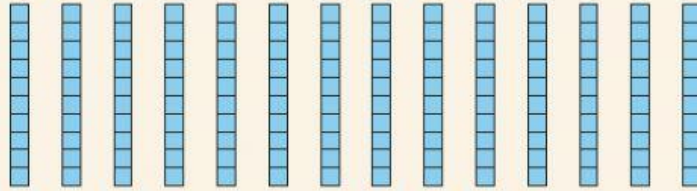
2)



เพนกวิน ..... ตัว

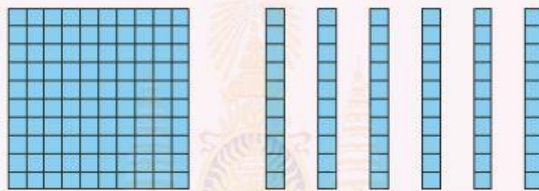
2) นับและเขียนตัวเลขแสดงจำนวน

1)



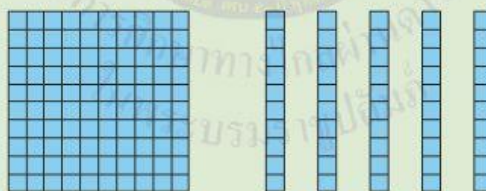
-----  
-----

2)



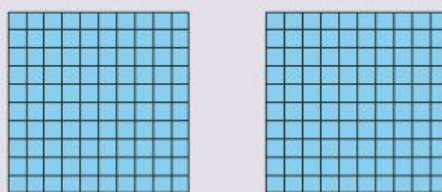
-----  
-----

3)



-----  
-----

4)



-----  
-----