



EVALUACIÓN FORMATIVA HISTORIA, GEOGRAFÍA Y CIENCIAS SOCIALES ZONAS CLIMÁTICAS Y SUS PAISAJES

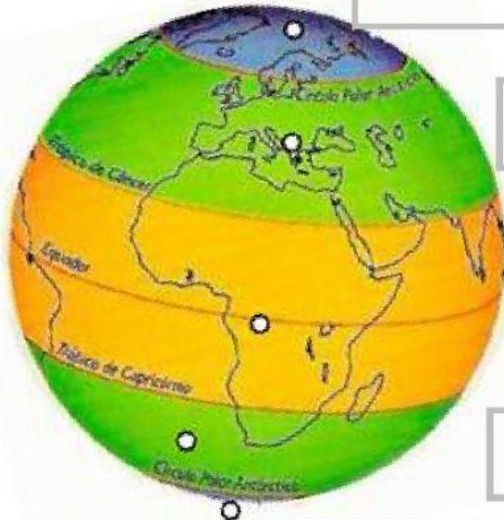
Objetivos a evaluar:

OA 8: Identificar y ubicar en mapas las principales zonas climáticas del mundo, y dar ejemplos de distintos paisajes que pueden encontrarse en estas zonas y de cómo las personas han elaborado diferentes estrategias para habitarlos.

INSTRUCCIONES:

- Lee con atención tu evaluación.
- Levanta la mano o escribe en el chat para preguntar tus dudas.

I. **UBICAR EN MAPA.** Observa el mapa y arrastra los nombres de las zonas climáticas al lugar que pertenecen. (5 pts)



ZONA FRIA DEL NORTE

ZONA FRIA DEL SUR



ZONA TEMPLADA NORTE

ZONA TEMPLADA SUR


ZONA CÁLIDA

II. LECTURA DE IMAGENES. Identifica la Zona Climática a la que pertenece cada paisaje. (4 ptos)

Sahara. África	Antártica, Chile
	
ZONA TEMPLADA	ZONA FRÍA
ZONA CÁLIDA	ZONA TEMPLADA

África	Amazonía, Brasil
	
ZONA CÁLIDA	ZONA CÁLIDA
ZONA TEMPLADA	ZONA FRÍA

III. CARACTERIZAR PAISAJES. Observa las imágenes y contesta las preguntas. (6. ptos)


Selva en Asia

¿Cómo es la vegetación del lugar?

¿Cómo son las lluvias en este lugar?

¿Qué tipo de paisaje es? (seco, templado, tropical, polar o de montaña)



Los Alpes en Europa

¿Cómo es la vegetación del lugar?

¿Cómo son las lluvias en este lugar?

¿Qué tipo de paisaje es? (seco, templado, tropical, polar o de montaña)

IV. **ALTERNATIVAS.** Lee las siguientes preguntas y selecciona la alternativa correcta (5 ptos)

1. ¿Cuál de las afirmaciones es **INCORRECTA**?

- a) La zona fría se caracteriza por tener altas temperaturas todo el año
- b) La zona templada tiene estaciones bien definidas
- c) En la zona cálida los rayos del Sol llegan de manera directa

2. “Los rayos del Sol llegan de manera directa en esta zona y las temperaturas son altas todo el año”, ¿Qué zona climática se describe?

- a) Fría
- b) Cálida
- c) Templada

3. De acuerdo a la vestimenta ¿En qué zona climática se puede usar?

- a) Zona cálida
- b) Zona fría
- c) Zona templada



4. ¿Por qué la zona fría se caracteriza por tener bajas temperaturas?

- a) Porque está cerca de la línea del ecuador
- b) Porque los rayos del sol llegan de manera muy inclinada
- c) Porque no hay luz del Sol en esa zona




























5. Los paisajes de tropicales y secos corresponden a la zona:

- a) Templada
- b) Cálida
- c) Fría



AUTOEVALUA ¿CÓMO FUE TU DESEMPEÑO?

Marca la opción que consideres correcta, considerando las últimas cuatro semanas.

Criterios	 Si	 Más o menos	 No
Soy capaz de reconocer las principales zonas climáticas del planeta.			
Soy capaz de reconocer distintos paisajes y asociarlo con la zona climática a la que pertenecen.			
Soy capaz de describir de forma general distintos paisajes considerando vegetación, agua y relieve.			
Asistí a clases virtuales y/o justifiqué mis inasistencias con mi profesora jefe o de Historia.			
Utilicé correctamente los recursos dispuestos en la sala virtual (cámara encendida, micrófono, chat)			
Me esforcé por prestar atención, participar y realizar las actividades en las clases virtuales.			
Repasé los contenidos cuando no los comprendí y antes de la evaluación formativa final.			
Trabajé de manera autónoma en mis actividades y solicite ayuda solo cuando la necesite.			

Comentario que deseas agregar de la asignatura

¡BUEN TRABAJO!