

Semirrecta, segmento y ángulo

1. Lee cada enunciado y une con líneas según corresponda

Es la línea recta que tiene un origen y se extiende sin fin en una sola dirección.

Segmento

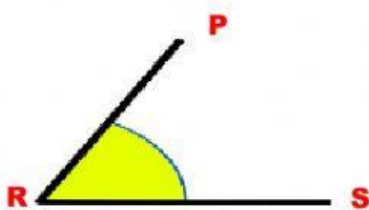
Es la región comprendida entre dos semirrectas que se unen en un punto


Semirrecta

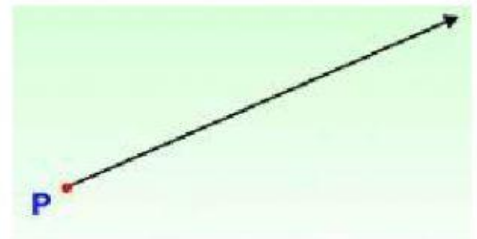
Es la línea recta comprendida entre dos puntos.

Ángulo

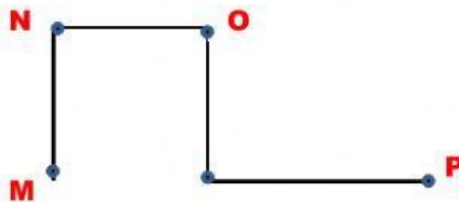
2. Observa las imágenes y selecciona el nombre correcto para cada gráfico.







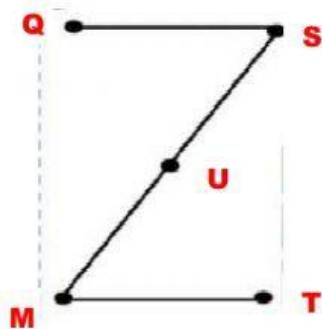
2. Cuenta los segmentos y selecciona el número correcto.



5

4

3



5

4

3