

¡Tú  
puedes  
hacerlo!



## ¿QUÉ RECTAS SON?

😊 Une cada nombre de recta con su definición.

**Paralelas**

**Secantes**

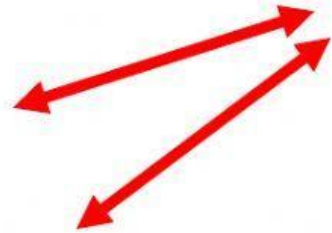
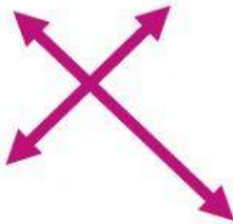
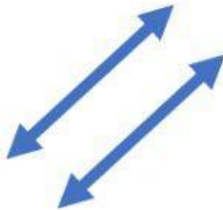
**Perpendiculares**

**Dos rectas se cortan y forman 4 ángulos iguales.**

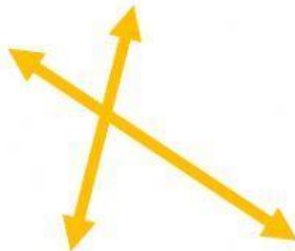
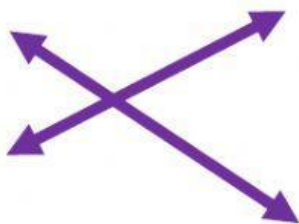
**Dos rectas por mucho que se prolonguen, nunca se cortan.**

**Dos rectas se cortan y no forman 4 ángulos iguales.**

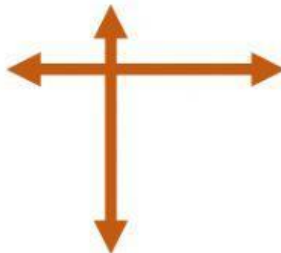
😊 Observa las rectas y selecciona el nombre para cada una de ellas:



|  |  |  |
|--|--|--|
|  |  |  |
|--|--|--|



|  |  |  |
|--|--|--|
|  |  |  |
|--|--|--|



|  |
|--|
|  |
|--|