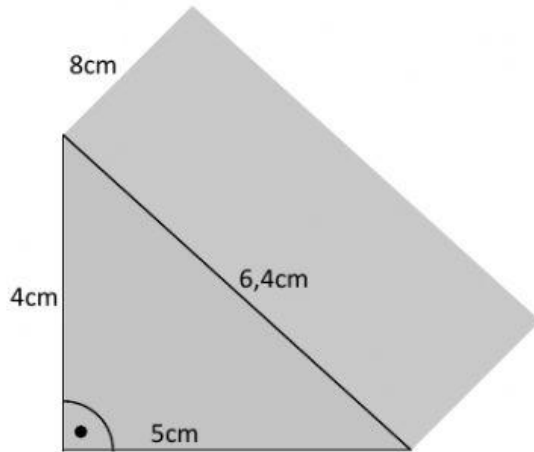


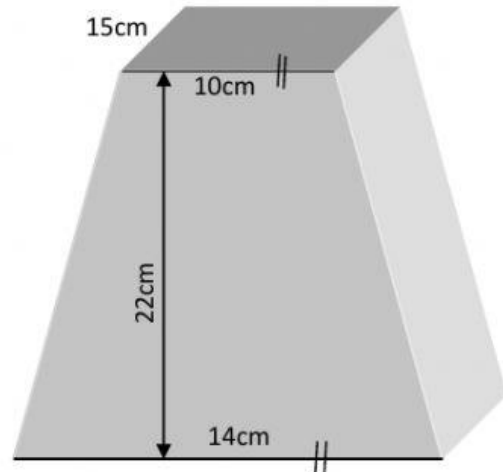
Ermittle die Volumen der folgenden Körper!



Grundfläche:

Höhe des Prismas:

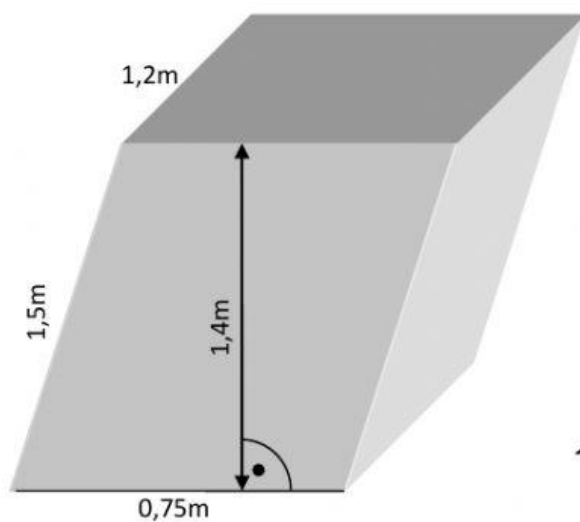
Volumen: $V = A_G \cdot h =$



Grundfläche:

Höhe des Prismas:

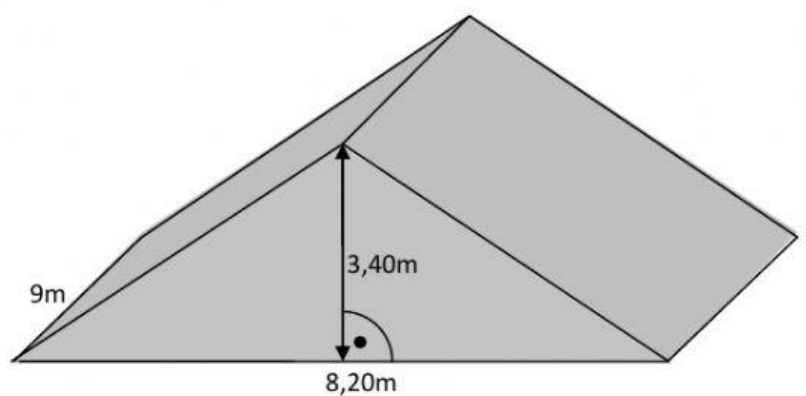
Volumen: $V = A_G \cdot h =$



Grundfläche:

Höhe des Prismas:

Volumen: $V = A_G \cdot h =$



Grundfläche:

Höhe des Prismas:

Volumen: $V = A_G \cdot h =$