





# Trasformaciones isométricas.


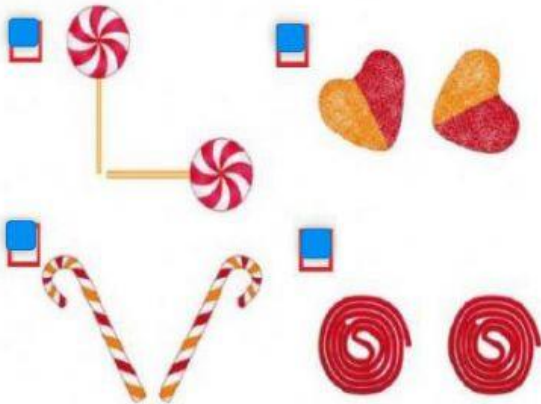


1. Observa cada imagen y selecciona el movimiento que realizó la figura (rotación o traslación):

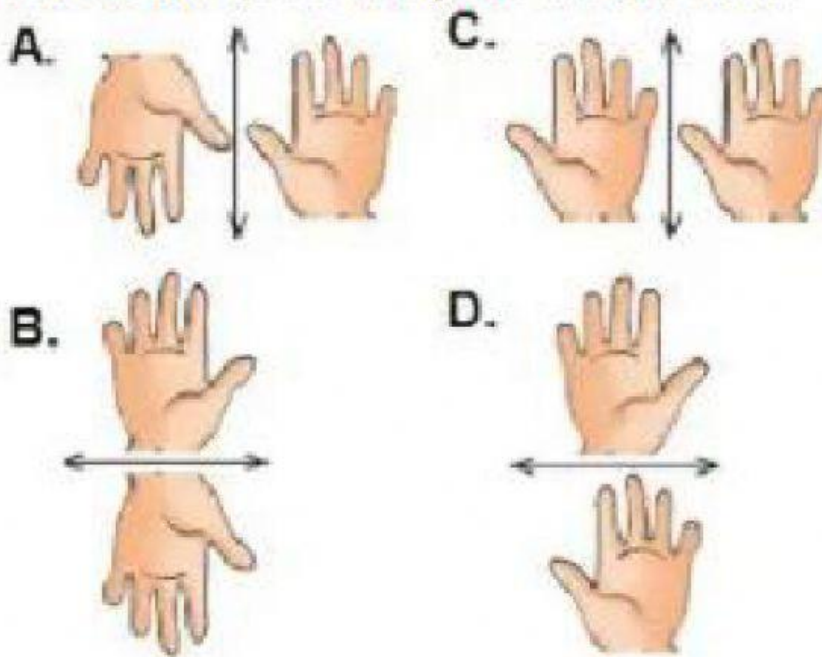
 <div> <input type="checkbox"/> ROTACIÓN         <input type="checkbox"/> TRASLACIÓN       </div>	 <div> <input type="checkbox"/> ROTACIÓN         <input type="checkbox"/> TRASLACIÓN       </div>
 <div> <input type="checkbox"/> ROTACIÓN         <input type="checkbox"/> TRASLACIÓN       </div>	 <div> <input type="checkbox"/> ROTACIÓN         <input type="checkbox"/> TRASLACIÓN       </div>

2. Marca la casilla de los dibujos que realizaron una rotación:

3. Marca la casilla de los dibujos que realizaron una traslación:

	
---	--

De las siguientes figuras, ¿en cuál se observa una **reflexión** respecto del eje de simetría dado?



Elige los recuadros de las figuras que representan **reflexión**.

