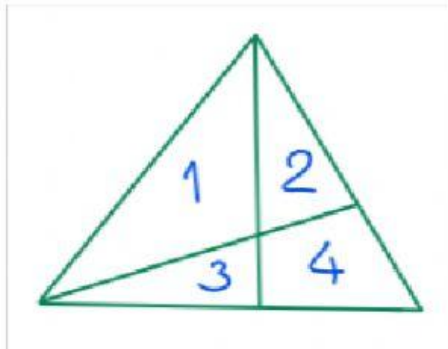


RETO MATEMÁTICO.

Cómo contar triángulos:

Vamos a colocar números a los espacios en blanco que se encuentran en la figura principal



Identificamos todos los triángulos posibles que se forman:

De 1 número: 1, 2, 3 = 3

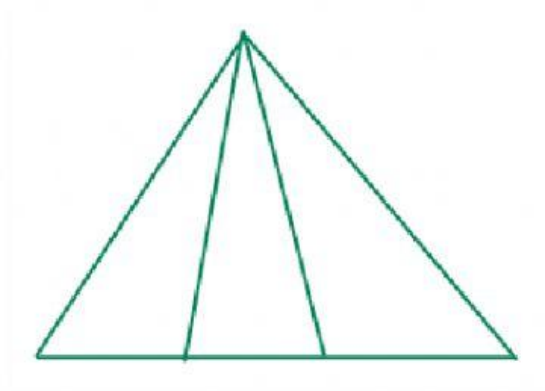
De 2 números: 12; 24; 34; 13 = 4

De 3 números: 0

De 4 números: 1234 = 1

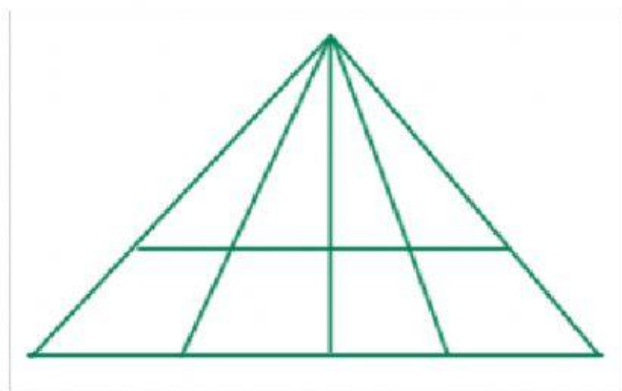
Total de triángulos = 8

¿Cuántos triángulos hay en la siguiente figura?



Hay triángulos.

¿Cuántos triángulos hay en la siguiente figura?



Hay triángulos.