





## Guía de trabajo

### I. Resuelve las siguientes adiciones:

 $4+1=$

 $2+2=$

 $3+2=$

 $2+5=$

 $4+2=$

**II. Desarrolla las siguientes adiciones. Si lo necesitas, utiliza tus cubos conectables**

$$\begin{array}{r} 5 \\ + 4 \\ \hline \square \end{array}$$

$$\begin{array}{r} 3 \\ + 4 \\ \hline \square \end{array}$$

$$\begin{array}{r} 6 \\ + 3 \\ \hline \square \end{array}$$

$$\begin{array}{r} 2 \\ + 5 \\ \hline \square \end{array}$$

$$\begin{array}{r} 4 \\ + 2 \\ \hline \square \end{array}$$