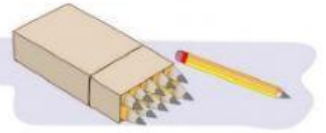
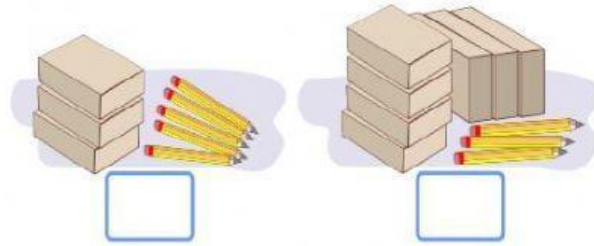


## MATEMÁTICAS

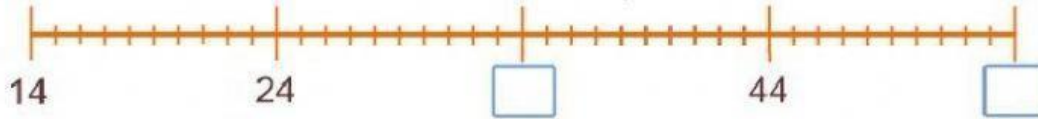
En la papelería venden **lápices sueltos** y **cajas de 10 piezas**.



**1 y 2.-** Escribe cuántos lápices hay en cada caso.



**3 y 4.-** Escribe en los recuadros los números que faltan en la recta numérica.



**Observa la siguiente imagen.**



**5 a la 8.-** Responde las siguientes preguntas:

Daniel compró estos artículos:



¿Cuánto pagó?

Sofía compró estos artículos:



¿Cuánto pagó?

María quiere comprar:



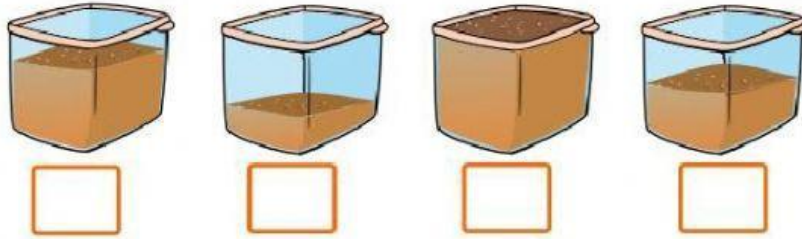
Tiene 40 pesos.  
¿Cuánto le falta?

José quiere comprar:

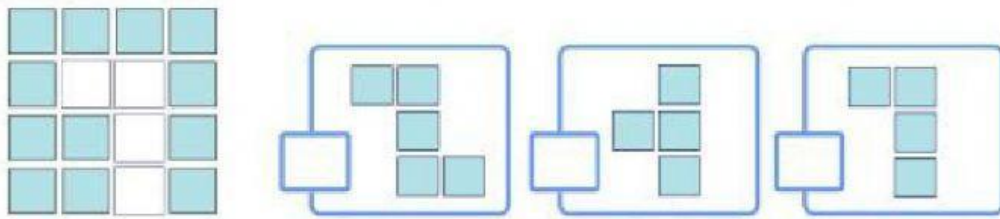


Tiene 33 pesos.  
¿Cuánto le falta?

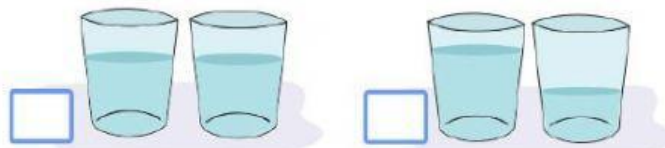
**9 al 12.-** Enumera los recipientes del 1 al 4 para ordenarlos del más ligero al más pesado.



**13.-** Selecciona ☒ la parte que falta para completar la figura.



**14.-** Selecciona ☒ el par de vasos que tiene la misma cantidad de líquido.

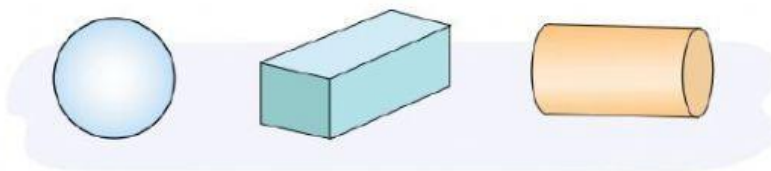


**15 al 17.-** Une con una línea la descripción que corresponde con cada objeto.

Un objeto que rueda y avanza.

Un objeto que solo rueda por una de sus partes y avanza.

Un objeto que no puede rodar.



18.- Mariana pondrá a la venta sus últimas piezas de fruta: a 1 peso los tomates y a 10 pesos las sandías.

¿Cuánto dinero obtendrá con toda la venta?



19 y 20.- Resuelve las operaciones.

$$\begin{array}{r} 148 + \\ \underline{32} \end{array} \qquad \begin{array}{r} 193 - \\ \underline{162} \end{array}$$