

Escola:

Nome:

Ano:

Turma:

Turno:

Data:

/

/

Matemática

PROBLEMAS DE MATEMÁTICA

1) JORGE TEM 243 FIGURINHAS E SEU PRIMO CARLOS TEM 125. QUANTAS FIGURINHAS ELES TÊM AO TODO?

- | | |
|--------------------------|-----|
| <input type="checkbox"/> | 379 |
| <input type="checkbox"/> | 378 |
| <input type="checkbox"/> | 368 |

2) UMA COSTUREIRA FEZ 352 SAIAS E 263 BLUSAS. QUANTAS PEÇAS DE ROUPA ELA FEZ NO TOTAL?

- | | |
|--------------------------|-----|
| <input type="checkbox"/> | 615 |
| <input type="checkbox"/> | 515 |
| <input type="checkbox"/> | 620 |

3) UM SORVETEIRO SAIU DE CASA COM 839 PICOLÉS EM SEU CARRINHO. DURANTE O DIA ELE VENDEU 536 PICOLÉS. QUANTOS PICOLÉS ELE AINDA TEM?

- | | |
|--------------------------|-----|
| <input type="checkbox"/> | 284 |
| <input type="checkbox"/> | 274 |
| <input type="checkbox"/> | 264 |

4) JOÃO PLANTOU EM SEU SÍTIO 107 PÉS DE ALFACE. DEPOIS DE UM TEMPORAL, 35 PÉS DE ALFACE MORRERAM. QUANTOS PÉS DE ALFACE PERMANECERAM VIVOS?

- | | |
|--------------------------|----|
| <input type="checkbox"/> | 72 |
| <input type="checkbox"/> | 71 |
| <input type="checkbox"/> | 70 |

5) SE UMA BICICLETA PODE SER COMPRADA PARCELADA EM 2 VEZES DE R\$ 68,50. QUANTO CUSTA A BICICLETA?

<input type="text"/>	127
<input type="text"/>	147
<input type="text"/>	137









6) UMA CAIXA DE BOMBOM CUSTA R\$ 12,25. QUANTO JANAÍNA GASTARÁ PARA COMPRAR 2 CAIXAS?

<input type="text"/>	25,50
<input type="text"/>	24,50
<input type="text"/>	23,50

7) NA BIBLIOTECA DA ESCOLA CHEGARAM 96 LIVROS NOVOS, JOANA TEM QUE DISTRIBUIR ESTES LIVROS EM 3 PRATELEIRAS. QUANTOS LIVROS ELA COLOCARÁ EM CADA PRATELEIRA?

<input type="text"/>	32
<input type="text"/>	33
<input type="text"/>	34

8) RESOLVA AS EXPRESSÕES.

 $2+7+8 = $ <input type="text"/>	 $2+8+8 = $ <input type="text"/>
 $5+3+5 = $ <input type="text"/>	 $9+3+7 = $ <input type="text"/>
 $7+3+5 = $ <input type="text"/>	 $6+4+5 = $ <input type="text"/>
 $2+9+8 = $ <input type="text"/>	 $2+3+7 = $ <input type="text"/>