

RELACIONES LÓGICO MATEMÁTICAS

Fecha: _____



1. Cuenta de 5 en 5 hasta el 100
2. Cuenta de 10 en 10 hasta el 100.
3. Cuenta de 100 en 100 hasta el 1000.
4. Cuenta regresiva desde el 50 al 0.
5. Realiza el dictado numérico. Escucha el audio.


Nombre:


Romanos 11:36

RELACIONES LÓGICO MATEMÁTICAS

Fecha:

8. Observa los conjuntos. Y selecciona el número de la cantidad a la que representa.

	3 4 6 5
---	------------------

	4 5 6 3
--	------------------

	7 6 5 4
--	------------------

	7 10 9 8
---	-------------------

9. Menciona el nombre de cada figura geométrica.



Nombre:

Romanos 11:36


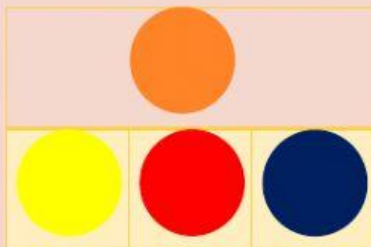
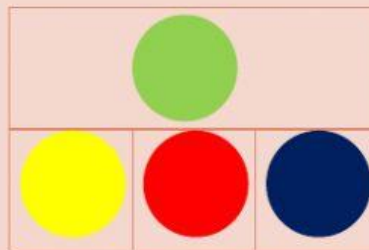
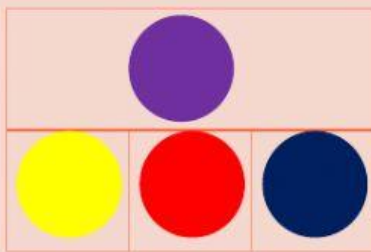
RELACIONES LÓGICO MATEMÁTICAS

Fecha:

10. Cuáles son los colores primarios.



11. Selecciona los colores que necesito para obtener los siguientes colores.



12. Ubica en el trencito el ayer – hoy – mañana.



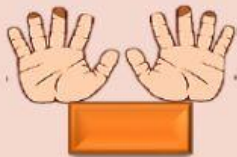
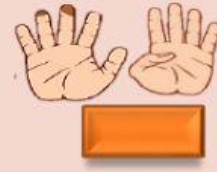
Nombre:

Romanos 11:36

RELACIONES LÓGICO MATEMÁTICAS

Fecha:

13. Identifica y escribe a qué número representa cada manito.



14. Escoge la respuesta correcta para cada operación.

$12 + 5 =$

$45 - 3 =$

$20 + 2 =$

$20 - 5 =$

$100 + 30 =$

$15 - 3 =$





Nombre:

Romanos 11:36

RELACIONES LÓGICO MATEMÁTICAS

Fecha: _____

15. Valor Posicional.

	C	D	U
	C	D	U
	C	D	U
	C	D	U
	C	D	U

Nombre:

Romanos 11:36