

NOME: _____ DATA: ____/____/____

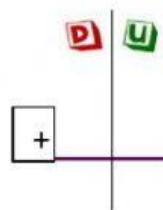
- 1) LEIA COM ATENÇÃO CADA DESAFIO MATEMÁTICO, FAÇA OS CÁLCULOS E COMPLETE AS RESPOSTAS. LEMBRE-SE: UNIDADE EM BAIXO DE UNIDADE E DEZENA EM BAIXO DE DEZENA NA HORA DE FAZER OS CÁLCULOS. OBSERVE O SINAL, ELE INDICA ACONTA QUE VOCÊ IRÁ FAZER.



EM UM JARDIM TINHAM 20 BORBOLETAS. CHEGARAM 10 BORBOLETAS. QUANTAS BORBOLETAS FICARAM NO JARDIM?

RESPOSTA: TINHA AO TODOBORBOLETAS.

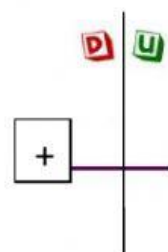
CÁLCULOS



NO POMAR DO SÍTIO DO JOCA FORAM CULTIVADAS 16 LARANJEIRAS E 13 GOIABEIRAS. QUANTAS ÁRVORES FORAM CULTIVADAS AO TODO?

RESPOSTA: FORAM CULTIVADAS AO TODO..... ÁRVORES, NO SÍTIO DO JOCA.

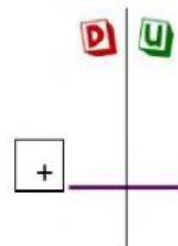
CÁLCULOS



MARCELO TEM 12 BOLINHAS DE GUDE. GANHOU DE SEU IRMÃO MAIS 7 BOLINHAS DE GUDE. COM QUANTAS BOLINHAS ELE FICOU?

RESPOSTA: MARCELO FICOU COM BOLINHAS DE GUDE.

CÁLCULOS



- 2) EFETUE AS CONTAS:

D U

D U

D U

D U

D U

$$\begin{array}{r} 24 \\ + 23 \\ \hline \end{array}$$

$$\begin{array}{r} 25 \\ + 23 \\ \hline \end{array}$$

$$\begin{array}{r} 24 \\ + 24 \\ \hline \end{array}$$

$$\begin{array}{r} 15 \\ + 22 \\ \hline \end{array}$$

$$\begin{array}{r} 15 \\ + 24 \\ \hline \end{array}$$