


| | |
|--|---------------------------------------|
|  <p>UNIDAD EDUCATIVA "ALM. JORGE CRUZ POLANCO" Valor, Ciencia y Lealtad EVALUACIÓN TERCERA UNIDAD AÑO LECTIVO 2020- 2021</p> | |
| NOMBRE DEL ESTUDIANTE: | |
| AÑO: SEXTO EGB PARALELO: ÚNICO | FECHA: |
| ÁREA: MATEMATICAS | DOCENTE: Lic. Gabriela Suárez |
| INDICACIONES GENERALES | |
| <ul style="list-style-type: none"> • Llenar los datos obligatorios de no hacerlo no podrá enviar la prueba. • Cada pregunta tiene una solo respuesta. • La prueba tiene un tiempo estipulado de no llenara en el mismo no se registrara el puntaje por lo que el estudiante tendrá automáticamente cero, y solo podrá enviar una solo vez | |
| GRADO DE DIFICULTAD: BAJO | TIEMPO DE DURACIÓN: 20 MINUTOS |
| CALIFICACION:/10 | |

1. Escribe como se lee cada número.

- a. 78,9=
- b. 0,039=
- c. 13,007=
- d. 567,05=

2. Transforma cada fracción a número decimal.

- a. $8/10 =$
- b. $153/100 =$
- d. $79/10 =$

Caja de respuestas:

0,8

0,08

0,008

0,153

1,53

15,3

0,79

0,079

7,9

3. Ubica correctamente las cantidades y realiza la operación indicada.

a. $137,89 + 78,634 + 765,1$

| | c | d | u | , | d | c | m |
|---|---|---|---|---|---|---|---|
| | | | | | | | |
| | | | | | | | |
| + | | | | | | | |
| | | | | | | | |
| | | | | | | | |

b. $8\,900,1 - 987,267$

| | U | m | c | d | u | , | d | c | m |
|---|---|---|---|---|---|---|---|---|---|
| | | | | | | | | | |
| - | | | | | | | | | |
| | | | | | | | | | |

4. Calcula los productos y cocientes, y luego redondea el resultado a las décimas.

| OPERACIÓN | RESPUESTA | REDONDEO A LA DÉCIMA |
|--------------------------|-----------|----------------------|
| $45,2347 \times 100 =$ | | |
| $976,853 \times 10 =$ | | |
| $567\,716 \div 1\,000 =$ | | |
| $789,67 \div 100 =$ | | |

5. Completa las operaciones y escribe la propiedad que se aplica en cada caso. (CONMUTATIVA -ASOCIATIVA- DISTRIBUTIVA-ELEMENTO NEUTRO)

| | | | | | | |
|----------|---|------|---|------|---|--|
| a. 23,15 | + | 10,4 | = | 10,4 | + | |
|----------|---|------|---|------|---|--|

PROPIEDAD :.....

| | | | | |
|-----------|---|---|---|--|
| b. 45,678 | + | 0 | = | |
|-----------|---|---|---|--|

PROPIEDAD :.....

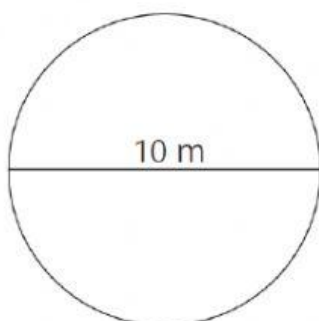
| | | | | |
|----------|---|---------------|---|--|
| c. 34,17 | + | (15,67 + 8,3) | = | |
|----------|---|---------------|---|--|

PROPIEDAD :.....

6. Calcula los productos.



| | | | | | |
|-------|---|---|----|----|---|
| | | 8 | 9, | 1 | 4 |
| | X | | | 1, | 7 |
| <hr/> | | | | | |
| | | | | | |
| + | | | | | |
| <hr/> | | | | | |
| | | | | | |

7. Calcula la longitud de la circunferencia.



Operación:

Respuesta=

| Elaborado | Revisado | Aprobado | Firmas |
|---|---|------------------------------|----------------------------------|
| Docentes Tutores | Coordinador/a Jefe/a de área | Vicerrectora | Estudiante y Padre de Familia |
|  Lic. Gabriela Suarez |  Lic. Gabriela Suarez | Msc. Alonso Almeida | Estudiante |
| Fecha: 29/03/2021 | Fecha: 29/03/2021 | Fecha: 29/03/2021 | Fecha: 29/03/2021 |