

Hay 6 manzanas y me como 2. ¿Cuántas quedan?




6



2


=

Hay 5 huevos y se rompe 1. ¿Cuántos quedan?




=

Tenía 10 magdalenas. Si me como 3. ¿cuántas me quedan?



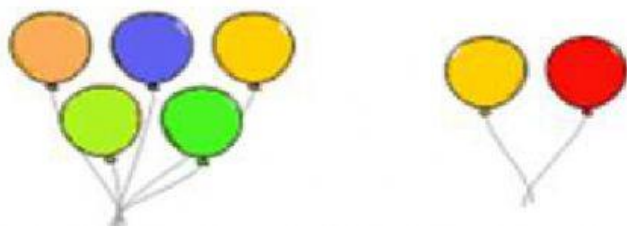
=

Tengo 9 globos y explotan 3. ¿Cuántos quedan?



=

Tengo 5 globos y me regalan 2 más. ¿Cuántos tengo en total?



=

Hay 5 peras y me como 2. ¿Cuántas quedan?



$$\boxed{5} - \boxed{2} = \boxed{}$$

Hay 6 magdalenas y me como 2. ¿Cuántas quedan?



$$\boxed{} - \boxed{} = \boxed{}$$

Tenía 10 galletas. Si me como 3, ¿cuántas me quedan?




$$\boxed{} - \boxed{} = \boxed{}$$

Tengo 7 mariposas y encuentro 3. ¿Cuántas tengo en total?



$$\boxed{} + \boxed{} = \boxed{}$$

Tengo 5 flores y encuentro 3 más. ¿Cuántas tengo en total?



$$\boxed{} + \boxed{} = \boxed{}$$