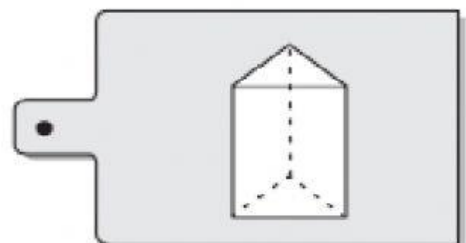
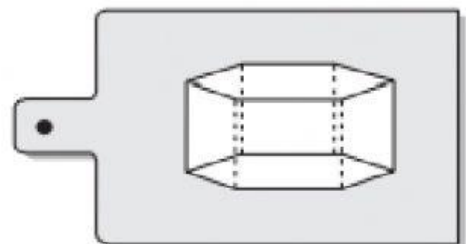
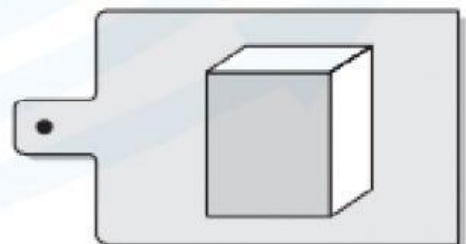
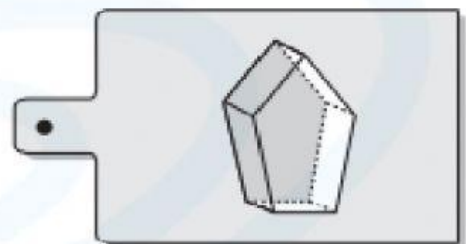
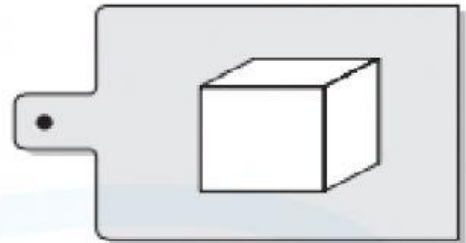
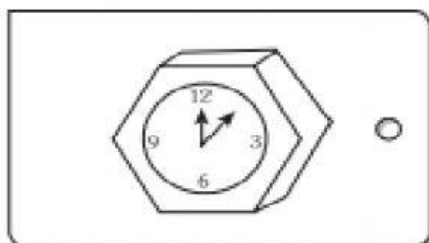
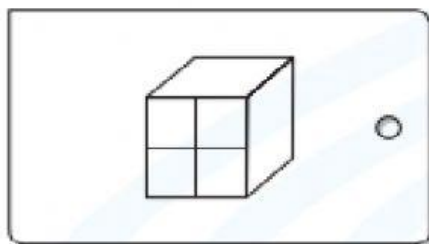
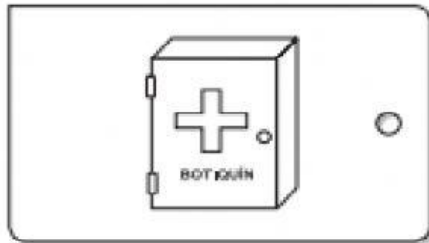


## TRABAJEMOS JUNTOS

Resuelve con ayuda de tu profesor.

1. Une con una línea cada objeto con el sólido geométrico que tenga la misma forma. (Usa colores).



2. Une con una cuerda cada sólido con su nombre respectivo. (Usa colores).



Prisma ☐  
pentagonal

Pirámide ☐  
pentagonal

Cubo ☐

Cilindro ☐

Cono ☐

3. Une con una línea cada sólido geométrico con el cartel que le corresponde.



Esfera ☐

Cubo ☐

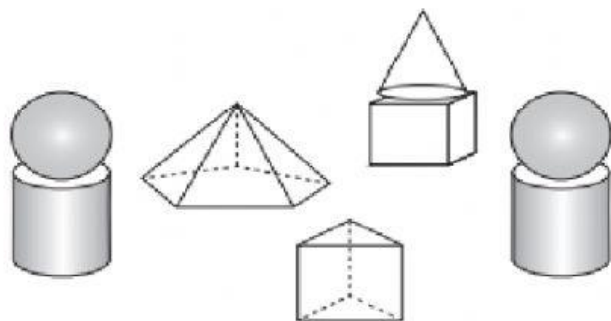
Cilindro ☐

Pirámide ☐

Cono ☐

Prisma ☐

4. Observa las siguientes construcciones y completa los datos en la tabla.



Sólidos	Cantidad
Prisma	
Cilindro	
Cono	
Pirámide	
Esfera	

5. Colorea con rojo las pirámides, con verde los prismas y con azul, los cuerpos redondos.

