




Ficha de Matemática

Seleccione la alternativa correcta.

1 ¿Cuál de las siguientes alternativas corresponde a una representación de $2 \cdot 5$?

- A 
- B 
- C 

2 Una camioneta lleva 5 canastos con 8 manzanas cada uno. ¿Cuántas manzanas lleva en total?

- A 13 manzanas. B 40 manzanas. C 80 manzanas.

3 ¿Cuál de las siguientes situaciones se resuelve multiplicando $3 \cdot 2$?

- A Tenía 3 bolitas y perdí 2. ¿Cuántas me quedan?
- B Tengo 3 bolsas con 2 bolitas cada una. ¿Cuántas bolitas tengo en total?
- C Tengo 3 bolitas verdes y 2 bolitas amarillas. ¿Cuántas bolitas tengo en total?




4 Un día en una actividad de Educación Física un curso se organizó en 4 grupos de 10 niños cada grupo. ¿Cuántos niños asistieron a clases ese día?

- A 6 B 14 C 40

5 El martes en una tienda se venden 4 mochilas, cada una con 6 lápices de regalo. ¿Cuántos lápices tendrá que regalar el dueño de la tienda el día martes?

- A 10 B 24 C 30

6 ¿Cuál de las siguientes alternativas corresponde a una representación de $4 \cdot 3$?

- A 
- B 
- C 

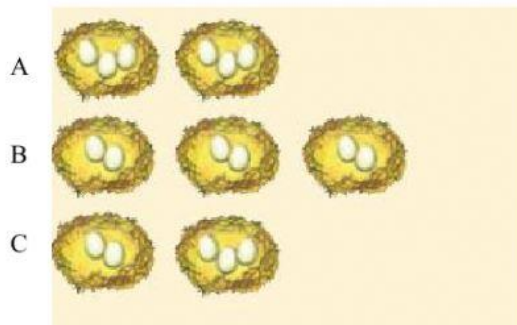
7 En la Florería "Santa Gemita" hay 5 floreros con 4 flores cada uno. ¿Cuántas flores en total?

A 10 flores

B 15 flores

C 20 flores

8 ¿Cuál de las alternativas corresponde a una representación de $2 \cdot 3$?



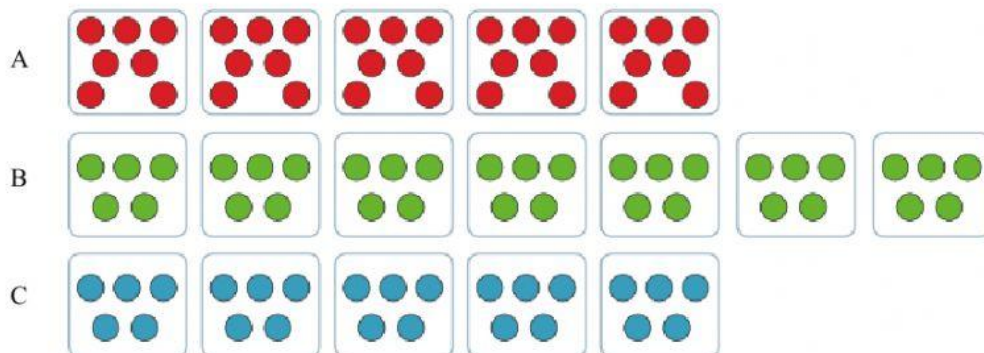
9 La multiplicación 8×10 se representa con la adición:

A $10 + 8$

B $8 + 8 + 8 + 8 + 8 + 8 + 8 + 8 + 8 + 8$

C $10 + 10 + 10 + 10 + 10 + 10 + 10 + 10 + 10$

10 ¿Cuál de las siguientes representaciones corresponde a la expresión 5 veces 7?



11 La adición $9 + 9 + 9 + 9 + 9$ representa la multiplicación:

A 9×5

B 9×9

C 5×9

12 La familia González consume aproximadamente 5 litros de leche al día. ¿Cuál de las siguientes operaciones informa acerca de cuántos litros de leche consume esta familia en una semana?

A $7 + 5 =$

B $7 - 5 =$

C $7 \times 5 =$

13 ¿Qué opción muestra una manera de calcular $4 \cdot 6$?

A $4 + 6$

B $4 + 4 + 4 + 4$

C $6 + 6 + 6 + 6$

14 Para preparar un queque, Paulina utiliza 2 huevos. ¿Cuántos huevo necesita para hacer 5 queques?

A 2 huevos

B 5 huevos

C 10 huevos