

EVALUACION DE MATEMÁTICA.

Nombre:

Grado:

📌 Une con flechas:

83%	33 por ciento	8 de cada 100
54%	8 por ciento	33 de cada 100
8%	54 por ciento	83 de cada 100
33%	83 por ciento	54 de cada 100



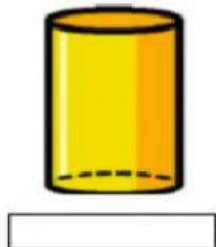
📌 Calcular el precio final de:

Un televisor de 250 \$ si se les aplica un descuento del 15%

Un reloj de 160\$ si se les aplica un descuento del 30%

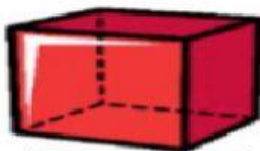
Un laptop que cuesta 600 \$ si se aplica un descuento de 8%

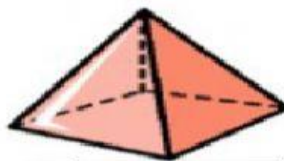
Arrastra a donde corresponde el nombre del sólido geométrico.

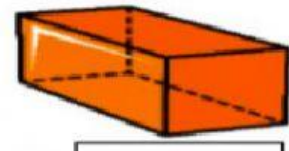












Esfera

Cilindro

Cubo

Prisma

cono

Pirámide

Selecciona verdadero o falso:

- El cilindro tiene 4 caras
- La pirámide de la imagen de arriba tiene la base cuadrada
- La prisma rectangular tiene 6 caras iguales

● Une cada suceso con la probabilidad correcta según el siguiente dibujo



Sacar una tarjeta de color rojo

Sacar una tarjeta de color verde

Sacar una tarjeta de color amarillo

Sacar una tarjeta de color rojo o amarillo

Sacar una tarjeta de color verde o amarillo

● Pregunta:

En una ruleta de 4 colores (amarillo, rojo, verde y naranja), ¿qué probabilidad hay de que al girar la ruleta salga rojo?



• $\frac{1}{4}$

• $\frac{1}{2}$

• $\frac{1}{5}$