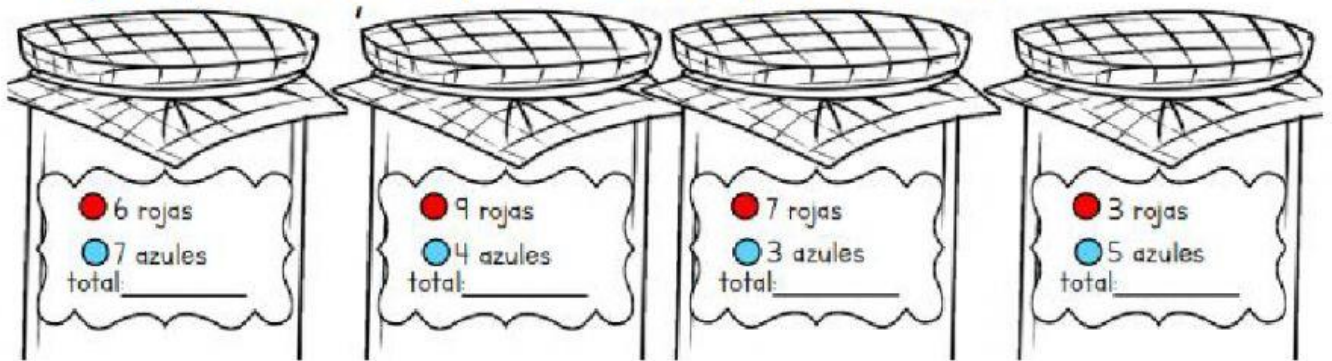


Pensamiento matemático

Evaluación 3er trimestre

1. Escribe el número que se forma con las fichas rojas que valen 10 y las azules que valen 1.



2. Escribe la cantidad de dinero que tiene cada monedero.



3. Completa las sucesiones, de 5 en 5 y de 2 en 2.

10	15					
32	34					

4. Escribe cuánto le falta a cada número para llegar al 100.

55 75 80

5. Suma los números de las tarjetas y anota el resultado.

5 4 6 2 = 7 3 9 5 =

6. Escribe el número que falta para que cada suma sea correcta.

$$75 + \boxed{} = 100$$

$$50 + \boxed{} = 100$$

Observa los siguientes productos y sus precios.



7. Responde las siguientes preguntas.

Daniel compró estos artículos:



¿Cuánto pagó? \$

Sofía compró estos artículos:



¿Cuánto pagó? \$

María quiere comprar:



Tiene 40 pesos.
¿Cuánto le falta? \$

José quiere comprar:




Tiene 33 pesos.
¿Cuánto le falta? \$

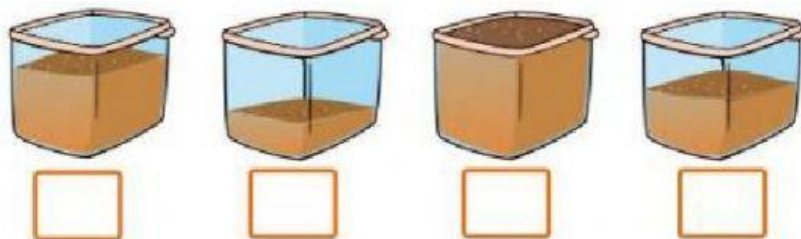
8. Observa la balanza y selecciona el objeto más pesado en cada caso.



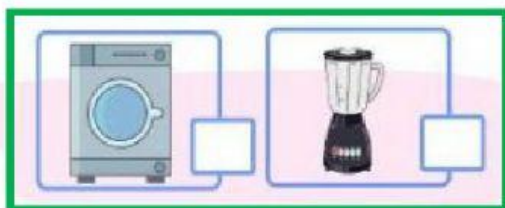
9. Ordena los animales del más grande al más pequeño, del 1 al 4.



10. Enumera los recipientes del 1 al 4 del más ligero al más pesado.



11. Selecciona el objeto más pesado en cada caso.

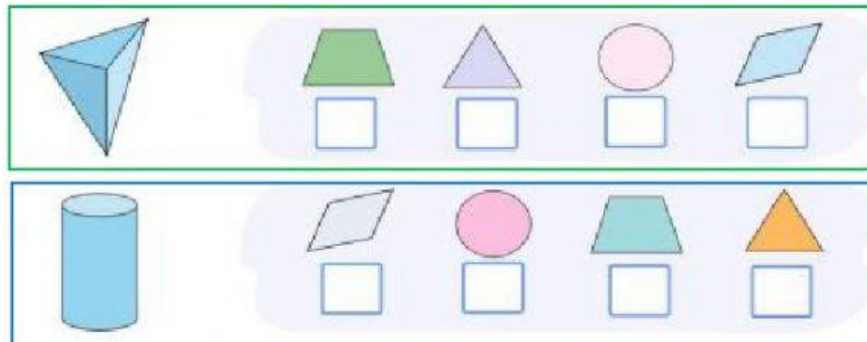


12. Coloca los días de la semana que hacen falta.

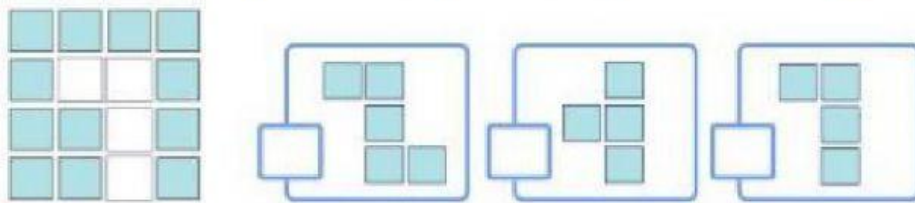
Lunes					Sábado	
-------	--	--	--	--	--------	--

Miércoles	Domingo	Martes	Viernes	Jueves
-----------	---------	--------	---------	--------

13. Selecciona la huella que deja alguna de las caras de los siguientes cuerpos.



14. Selecciona la parte que falta para completar la figura.



15. Selecciona el par de vasos que tienen la misma cantidad.

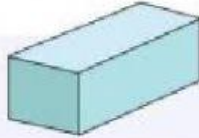



16. Une con una línea la descripción que corresponde con cada objeto.

Un objeto que
rueda y avanza.

Un objeto que
solo rueda por una de
sus partes y avanza.

Un objeto que no
puede rodar.



17. Numera del 1 al 4 los objetos para ordenarlos del más corto al más largo.

