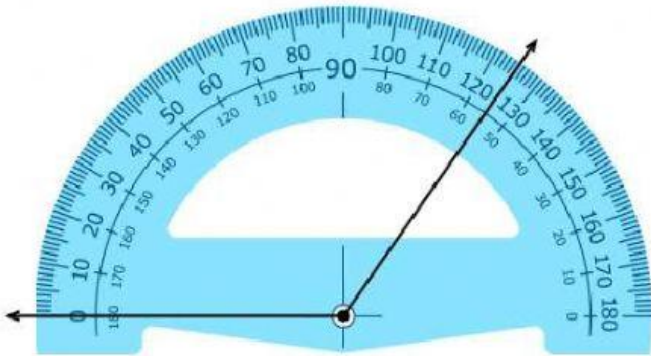


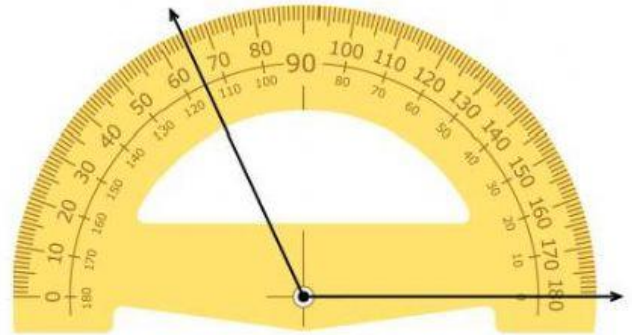
1. ANGULOS Y LINEAS

INSTRUCCIONES: Mide los siguientes ángulos, recordando que la medición inicia en el 0°

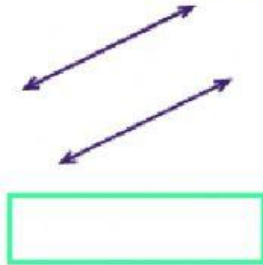
1. ¿Cuánto mide este ángulo? $^\circ$



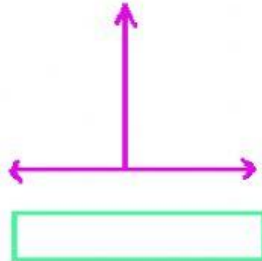
2. ¿Cuánto mide este ángulo? $^\circ$



3. ¿Estas líneas se llaman?



4. ¿Estas líneas se llaman?



5. ¿Cómo se llama este ángulo?

