


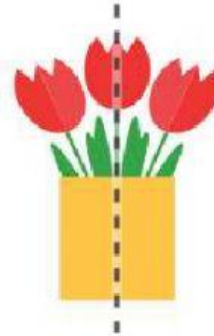
## 1. SIMETRIA

1. ¿La línea de puntos pasa por eje de simetría?    2. ¿La línea de puntos pasa por eje de simetría?



sí

no



sí

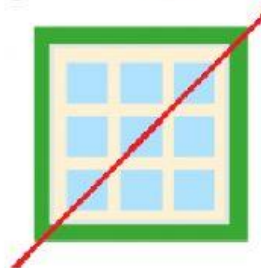
no

3. ¿La línea de puntos pasa por eje de simetría?    4. ¿La línea roja pasa por eje de simetría?



sí

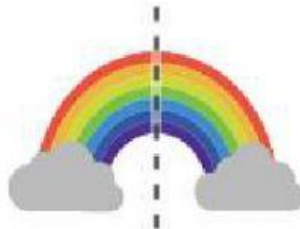
no



sí

no

5. ¿La línea de puntos pasa por eje de simetría?



sí

no