



PREFEITURA
**Barra
Mansa**

PREFEITURA MUNICIPAL DE BARRA MANSA
SECRETARIA MUNICIPAL DE EDUCAÇÃO
GERÊNCIA DE EDUCAÇÃO BÁSICA



BMEDUCAÇÃO
PLATAFORMA DE ENSINO

UNIDADE ESCOLAR: _____

NOME: _____ DATA: _____

COMPONENTE CURRICULAR – MATEMÁTICA/GEOMETRIA – PROFESSOR: SEBÁ


ENSINO FUNDAMENTAL II – 7º/8º ANO - 2021 TURMA:802

SEMANA 17 – 28 a 02 /07/21

Trabalho de geometria Valor: 30 pontos

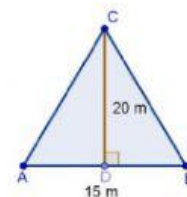
1- A área da figura abaixo é:

- a) 120 cm^2 b) 34 cm^2 c) 32 cm^2 d) 60 cm^2



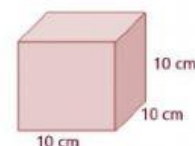
2- A área da figura abaixo é:

- a) 300 m^2 b) 150 m^2 c) 150 m^2 d) 200 m^2



3- O volume do cubo abaixo é:

- a) 1000 cm^3 b) 10 cm^3 c) 100 cm^3 d) 200l



4- Quantos litros de água cabem em uma caixa cúbica de aresta medindo 2 m?

- a) 1500 l b) 1000 l c) 2 000 l d) 8 000 l

$1 \text{ m}^3 = 1000 \text{ litros}$

5- Qual é o volume do sólido abaixo?

- a) 216 cm^3 b) 36 cm^3 c) 64 cm^3 d) 12 cm^3

