

**LEMBAR KERJA PESERTA DIDIK
(LKPD)**

Nama	:
Kelas	:
No. Absen	:

Mata Pelajaran : Matematika
Kelas : VI
Semester : Gasal
Materi : Unsur-unsur Lingkaran

Kompetensi Dasar

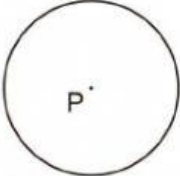
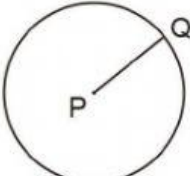
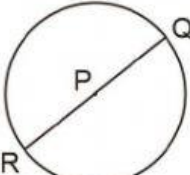
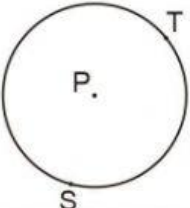
Muatan Bahasa Indonesia

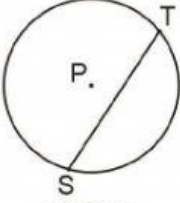
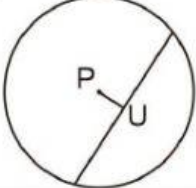
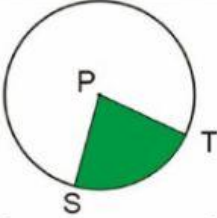
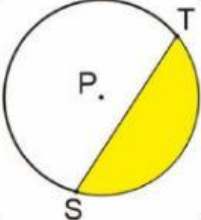

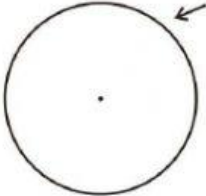
- 3.4 Menjelaskan titik pusat, jari-jari, diameter busur, tali busur, tembereng, dan juring.
4.4 Mengidentifikasi titik pusat, jari-jari, diameter, busur, tali busur, tembereng, dan juring.

Petunjuk

1. Tulislah identitasmu pada LKPD (Nama, Kelas, dan No. Absen)
2. Amati gambar lingkaran pada tabel.
3. Identifikasi unsur-unsur lingkaran yang disajikan.
4. Diskusikan dengan kelompokmu tentang unsur-unsur lingkaran tersebut.
5. Tanyakan kepada gurumu jika ada hal-hal yang kurang jelas.

a. Lengkapi tabel di bawah ini!

No.	Gambar	Nama Unsur Lingkaran
1		Titik P disebut ..
2		Garis PQ disebut ...
3		Garis QR disebut ...
4		Garis lengkung ST disebut ...

No.	Gambar	Nama Unsur Lingkaran
5		Garis ST disebut ...
6		Garis PU disebut ...
7		Daerah yang diarsir hijau disebut ...
8		Daerah yang diarsir kuning disebut ...
9		Daerah yang diarsir coklat disebut ...
10		Garis tepi lingkaran yang ditunjuk anak panah disebut ...

b. Presentasikan hasil diskusi kelompokmu!
