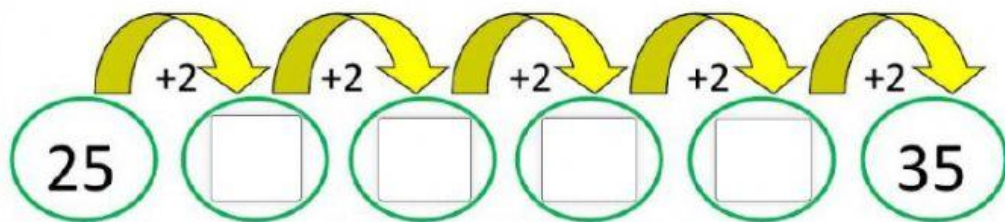
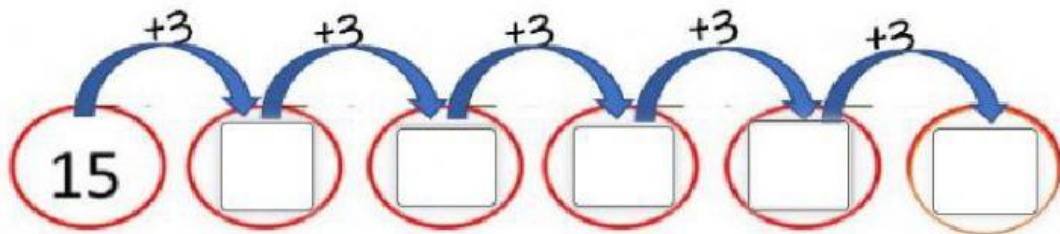


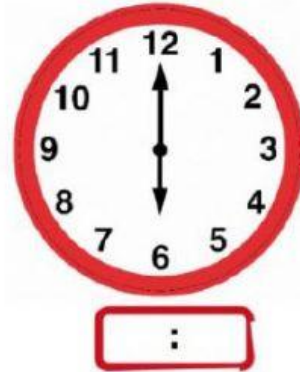
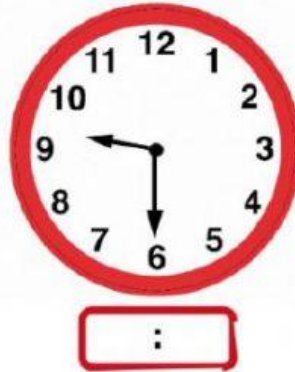
EVALUACIÓN MENSUAL MATEMATICAS

GRADO PRIMERO

1. Completa las siguientes secuencias, siguiendo el patrón



2. Escribe la hora que se está indicando en cada reloj



3. Resuelve las siguientes operaciones de cálculo mental

$$3 + \square = 7$$

$$\square + 9 = 15$$

$$\square + 2 = 10$$

$$5 + \square = 14$$

$$6 + \square = 13$$

$$\square + 3 = 5$$

$$4 + \square = 8$$

$$\square + 6 = 11$$

$$\square + 8 = 17$$

$$6 + \square = 12$$

4. Completa los espacios en blanco

- Un año tiene _____ meses
- _____ es el mes que tiene menos días
- El séptimo mes es: _____
- El mes décimo primero es: _____
- _____ es el mes anterior a mayo

5. Encuentra la diferencia de los siguientes números:

	CM	DM	UM	c	d	u
	5	1	0	6	7	1
-	4	2	9	6	1	0

	CM	DM	UM	c	d	u
	3	7	9	9	0	2
-	2	1	5	0	8	3