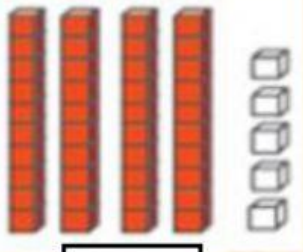

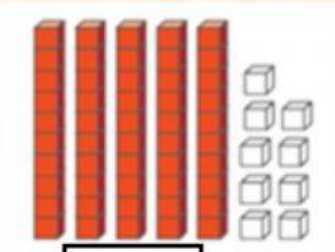





1. Escribe el número que se representa con el material Base diez:

 <input type="text"/>	 <input type="text"/>	 <input type="text"/>
 <input type="text"/>	 <input type="text"/>	 <input type="text"/>

2. Escribe el número:

- | | |
|---|---|
| - Diecinueve: <input type="text"/> | - Cuarenta y uno: <input type="text"/> |
| - Noventa y cinco: <input type="text"/> | - Veintitrés: <input type="text"/> |
| - Ochenta y ocho: <input type="text"/> | - Setenta: <input type="text"/> |
| - Cincuenta: <input type="text"/> | - Cincuenta y nueve: <input type="text"/> |

2. Escribe literalmente los siguientes números:

- | | |
|----------------------------|----------------------------|
| - 20: <input type="text"/> | - 55: <input type="text"/> |
| - 37: <input type="text"/> | - 86: <input type="text"/> |
| - 49: <input type="text"/> | - 28: <input type="text"/> |
| - 90: <input type="text"/> | - 93: <input type="text"/> |